



T.C. Ölçme, Seçme ve Yerleştirme Merkezi

**YÜKSEKÖĞRETİM KURUMLARI SINAVI
TEMEL YETERLİLİK TESTİ (TYT)**

27 HAZİRAN 2020 CUMARTESİ

Bu testlerin her hakkı saklıdır. Hangi amaçla olursa olsun, testlerin tamamının veya bir kısmının Merkezimizin yazılı izni olmadan kopya edilmesi, fotoğrafının çekilmesi, herhangi bir yolla çoğaltılması, yayımlanması ya da kullanılması yasaktır. Bu yasağa uymayanlar gerekli cezai sorumluluğu ve testlerin hazırlanmasındaki mali külfeti peşinen kabullenmiş sayılır.

DİKKAT!

Din Kültürü ve Ahlak Bilgisi dersini yasal olarak almak zorunda olan adaylar ve İmam Hatip Okulları öğrencileri/mezunları, Sosyal Bilimler Testi'nin ilk 20 sorusunu cevaplamakla yükümlüdür. Bu adaylar, bu testin 21-25. sorularını cevaplamayacaklardır. Bu adaylar, bu testin 21-25. sorularında işaretleme yapmış olsalar bile bu cevapları değerlendirmeye alınmayacaktır.

Din Kültürü ve Ahlak Bilgisi dersini yasal olarak almak zorunda olmayan veya farklı müfredat ile alan adaylar, Sosyal Bilimler Testi'nin 16-20. sorularını cevaplamadan 21-25. sorularını cevaplayacaklardır. Bu adaylar, bu testin 16-20. sorularında işaretleme yapmış olsalar bile bu cevapları değerlendirmeye alınmayacaktır.

AÇIKLAMA

1. Bu kitapçıkta toplam **125 soru** bulunmaktadır.
Türkçe Testi: 40 soru
Sosyal Bilimler Testi: 25 soru
Temel Matematik Testi: 40 soru
Fen Bilimleri Testi: 20 soru
2. Bu sınav için verilen cevaplama süresi **165 dakikadır (2 saat, 45 dakika)**.
3. **Bu sınav puanlanırken, her testteki doğru cevaplarınızın sayısından yanlış cevaplarınızın sayısının dörtte biri çıkarılacak ve kalan sayı o bölümle ilgili ham puanınız olacaktır.**
4. Kitapçığın sayfalarındaki boş yerleri müsvedde için kullanabilirsiniz.
5. Cevaplamaya, istediğiniz sorudan başlayabilirsiniz. Bir soru ile ilgili cevabınızı, cevap kâğıdında o soru için ayrılmış olan yere işaretlemeyi unutmayınız.
6. Bu kitapçıkta yer alan her sorunun sadece bir doğru cevabı vardır. Cevap kâğıdında bir soru için birden çok cevap yeri işaretlenmişse o soru yanlış cevaplanmış sayılacaktır. İşaretlediğiniz bir cevabı değiştirmek istediğinizde, silme işlemini çok iyi yapmanız gerektiğini unutmayınız.
7. Sınavda uyulacak kurallar bu kitapçığın arka kapağında belirtilmiştir.

1. Bu testte 40 soru vardır.

2. Cevaplarınızı, cevap kâğıdının Türkçe Testi için ayrılan kısmına işaretleyiniz.

1. "Mutlak olan hiçbir şey yoktur." fikri yaygın bir mantık hatasıdır çünkü bu önermenin kendisi bile en azından bir mutlağı varsayar. Bu önermenin ---- inanmak, "Herkes yalan söylüyor." diyen kişinin doğruyu söylediğine inanmak kadar ---- içerir.

Bu parçada boş bırakılan yerlere sırasıyla aşağıdakilerden hangisi getirilmelidir?

- A) sağlamlığına - belirsizlik
B) geçerliğine - tutarsızlık
C) doğruluğuna - karışıklık
D) mantığına - sıradanlık
E) yaygınlığına - karşıtlık
2. Eğer cebinde akrep var diyorsanız birinin cimri olduğunu uzun uzadıya anlatmanıza gerek yoktur. Aynı biçimde görmüş geçirmiş sözü, kastettiğiniz kişinin çok tecrübeli olduğunu veya iyi günler yaşadığını belirtmekte işinizi kolaylaştırır. Biri için helal süt emmiş demeniz insanların ona olan güvenini artırırken hinoğlu hin demeniz insanları ondan uzaklaştıracaktır.
- Paraya kıymak sözünü kullandığınızdaysa insanların gözünde savurgan bir kişilik canlanacaktır.

Bu parçada numaralanmış sözlerden hangisi yanlış kullanılmıştır?

- A) I B) II C) III D) IV E) V

3. Sanatta etkilenme, kaçınılmaz gibi görünse de öykünme tasvip edilecek bir durum değildir. Sanatın gerçekliği bunu hiçbir surette mazur görmez; özgünlüğün yeniden üretimi şeklinde can bulur her defasında çünkü. Tersine bir durum onu kötürümleştirir.

Bu parçadaki altı çizili sözcüğü anlamca karşılayabilecek bir kullanım aşağıdakilerin hangisinde vardır?

- A) Genç insanların, kişiliklerini oluştururken özellikle saygı ve sevgi duydukları bir kişiliği taklit etme eğilimi göstermeleri olağandır.
B) Kitap okuma alışkanlıklarındaki benzerlikler, okuyucuların benzer kitaplardan aynı sonuçları çıkardıkları anlamına gelmez.
C) Televizyon dizilerinin yapay kahramanları, hayatı tanımlama biçimleriyle ister istemez gerçek dünyanın bireyleri üzerinde etki bırakıyor.
D) Futbolcu, sahada sahip olması gereken öz güven ve beceriyi ancak antrenörünün talimatlarına harfiyen uymasıyla kazanır.
E) Tarihsel bir olayı anlamlandırmak için başvuru tarihini tekerrürden ibaret olduğu anlayışı, günümüzde pek kabul görmüyor.

4. Gerçek eleştirinin amacı; bir sanat görüşünü örneklendirmek, bir sanat yapıtının sanat değerini belirlemek, bir örnekten kalkarak çözümlenmeler ve incelemeler yapmak ve bir görüşü temellendirmek olmalıdır. Böyle bir eleştiri anlayışıyla kaleme alınmış yazıların amacı; falancayı yüceltmek, onurlandırmak veya filancayı ezmek, yerin dibine batırmak olamaz. Edebiyat çevrelerindeki güncel kıpırdanışlara değil, felsefi bir temelden hareketle edebiyat olaylarına eğilim bu tür eleştiriler.

Bu parçadaki altı çizili sözle anlatılmak istenen aşağıdakilerden hangisidir?

- A) Sanatçıların bir sanat görüşüne ağırlık vermesi
B) Sanatçılar arasında rekabet ortamının oluşması
C) Sanat dünyasındaki kısa süreli yönelimler
D) Eleştiri yazılarının artış göstermesi ve sevilmesi
E) Eleştirmen yorumlarının tartışmaya açıklığı

5. Keşifler, dünyanın tarihini anlatmayı hiçbir zaman bitiremediler çünkü her defasında dünyanın yaratılması ile işe başladılar.

Bu cümlede keşiflerin tutumuna dair yapılan eleştiri aşağıdakilerden hangisidir?

- A) Kendilerinden öncekilerin geldiği noktadan devam etmek yerine sürecin başını açıklamayı iş edinmeleri
B) İnsanın varlık sebebinin ancak varoluşun ilk dönemlerini öğrenmekle kavranabileceğine inanmaları
C) Dünyanın tarihini insanlık tarihinden tamamen ayrı bir çalışma alanı olarak görmekte ısrar etmeleri
D) Dünyanın yaratılışını anlamayı, insanlığın sonradan katettiği mesafeyi anlatmaktan daha önemli görmeleri
E) Yaratılışına dair tartışmalara odaklanıp dünyanın birey tarafından nasıl kurgulandığını atlamaları

6. (I) Bu köhne tren garında birkaç saat önce bir araya gelmiş üç yabancı olduğumuz hâlde, hızla birbirimizle benzeşmiş gibiyiz. (II) Aynı biçimde sıkılmamızın, aynı meraklı bakışlarla etrafı izlememizin nedeni nedir? (III) Her biri diğerinin devamı olan hareketlerimiz aynı beyin tarafından komut aldığımızı gösteriyor sanki. (IV) Birimiz bir yana baktığında hep beraber aynı tarafa yöneliyoruz mesela. (V) Gözlerimizde biriken yorgunluklarımız da aynı desem yeridir.

Bu parçada numaralanmış cümlelerin hangisinde anlamca kesinlik söz konusudur?

- A) I B) II C) III D) IV E) V

7. (I) "Ötekine önem ve değer vermek" şeklinde de tanımlanan empati, kendimizin ve başkalarının sınırlarını belirlemekle başlar. (II) İkel bir varoluştan gerçek ve ahlaki değerlere sahip bir insan olma yolunda yükselişimiz empati sayesinde. (III) Zihnimizin sınırlarından çıkıp başkalarının zihinlerinde dolaşabilmek, kendiliğinden elde ettiğimiz bir yeti değildir. (IV) Empatinin ahlak temellerimizin ne kadar derininde yer aldığını, empati ortamında büyüyen çocukların ileride akranlarına kıyasla daha fazla empati kurabilmesinden anlayabiliyoruz. (V) Gerçek empati, anlamak kadar başkalarının duygularını, duyarlılıklarını hissedebilmektir. (VI) Ötekine önem vermeyi küçüklüğümüzden beri bir değer olarak öğrenmişsek insanlarla ilişkimizde empatik davranmayı bir davranış kalıbı olarak özümseriz.

Bu parçada numaralanmış cümlelerden hangi ikisi aynı düşünceyi aktarmaktadır?

- A) I ve III B) I ve V C) II ve VI
D) III ve IV E) IV ve VI

8. Kromofor adı verilen pigment molekülleri fotosentez sırasında güneş enerjisini tepkime merkezlerine hızlı taşıdığından güneş enerjisinin hemen hepsi arada hiç ısı kaybı olmadan kimyasal enerjiye dönüşür.

Bu cümledeki ögelerin doğru sıralanışı aşağıdakilerin hangisinde verilmiştir?

- A) Belirtisiz nesne - zarf tümleci - zarf tümleci - özne - yer tamlayıcısı - yüklem
- B) Belirtili nesne - zarf tümleci - zarf tümleci - özne - yer tamlayıcısı - yüklem
- C) Özne - zarf tümleci - yer tamlayıcısı - zarf tümleci - yüklem
- D) Zarf tümleci - özne - zarf tümleci - yüklem
- E) Zarf tümleci - özne - zarf tümleci - yer tamlayıcısı - yüklem

9. Her sene, zamanı gelince İstanbul'un mahallelerinden
I
Boğaz'ın köylerine göçler başlardı. Eski İstanbullular;
II
Boğaziçi'nin kenarlarına yapılmış ve eski erkân
III
sedirleriyle, kerevet, şilte ve halılar üstünde yer
minderleri gibi eski eşyalarla döşenmiş geniş odalı,
IV
gönül ferahlatıcı yalılara taşınırlardı.
V

Bu parçada altı çizili sözcüklerle ilgili aşağıdakilerden hangisi yanlıştır?

- A) I. sözcük belirtme durumu eki almıştır.
- B) II. sözcük iyelik eki almıştır.
- C) III. sözcük sıfat-fiil eki almıştır.
- D) IV. sözcük çokluk eki almıştır.
- E) V. sözcük geniş zaman eki almıştır.

10. (I) Emprovize caz yapan müzisyenlerde çok önemli bir yetenek var: Zihnin akış hâlini kullanmak. (II) Trans hâli olarak da bilinen akış, bütünüyle tek aktiviteye odaklandığımız durumlarda beliriyor. (III) Örneğin maratonda koşuyorsanız tüm dikkatiniz vücudunuzun hareketlerine odaklanıyor. (IV) Kas hareketlerinizi, ayaklarınızın yerle temasını hissetmeye başlıyor; benliğin kaybolduğunu gözlemliyorsunuz. (V) Böyle durumlarda odaklanılan beceriler en üst seviyede gerçekleştiriliyor.

Bu parçada numaralanmış cümlelerin hangisinde sıfat tamlaması yoktur?

- A) I B) II C) III D) IV E) V

11. Aşağıdaki cümlelerin hangisinde büyük harflerin yazımı ile ilgili yanlışlık yapılmıştır?

- A) Bu konuyla ilgili kanun, Resmî Gazete'de yayımlanarak yürürlüğe girdi.
- B) Leyla ile Mecnun, Türk edebiyatında en çok işlenen anlatılardandır.
- C) Bahar mevsiminde bu tepeden Çanakkale Boğazı'nın seyrine doyum olmaz.
- D) Kültigin Anıtı, uçsuz bucaksız Orhun Vadisi'nin orta yerinde ziyaretçilerini bekler.
- E) XII. Uluslararası Dünya Dili Türkçe Sempozyumu bu yıl Ankara'da yapılacak.

12. Aşağıdaki cümlelerin hangisinde altı çizili sözcüğün yazımı yanlıştır?

- A) Bu araştırmada bizi şaşırtan bulgu, çevreciliğin barışsever akımlarla çatışmasıdır.
- B) O kadar merhametlidir ki yakın arkadaşları arasında karıncaincitmez olarak anılır.
- C) Başkent ortasındaki gökdelenler, etrafındaki binaları yutacakmış gibi duruyordu.
- D) İnsanlar, çokbilmiş olarak tanınan kişilerle arkadaşlık kurmaktan uzak dururlar.
- E) Orada yaşamamış, o insanlarla hiç bağ kurmamış gibi ne değerbilir ne yol yordam.

- 13.** Anadolu'da hangi büyücek kasabaya (I) adım atsanız tuluat tiyatrolarından birine rast gelirsiniz. Hiç değilse çarşı duvarlarında kafilenin yakın zamanda buraya konup göçtüğünü gösteren (II) solmuş ve yırtık bir ilana tesadüf edersiniz. Oyunlar kasabanın tiyatrosunda (III) köy meydanında yahut en büyük kahvede sergilenir. Ahali için arkalıksız kahve iskemleleri (IV) üç beş masa; oyuncular için yerden birkaç karış yüksek bir sedir (V) delik deşik iki boyalı perde yeter de artar bile.

Bu parçada numaralanmış yerlerden hangisine virgül getirilemez?

- A) I B) II C) III D) IV E) V

- 14.** Balıkçı () orfinozu () şimdiye dek tuttıklarına hiç benzemeyen bu balığı () heyecanla () özlemle beklemiş () emeğinin karşılığını sonunda alabilmişti ()

Bu parçada boş bırakılan yerlere aşağıdaki noktalama işaretlerinden hangileri sırasıyla getirilmelidir?

- A) (-) (,) (-) (,) (;) (.)
- B) (;) (,) (,) (;) (;) (.)
- C) (,) (-) (-) (;) (,) (.)
- D) (;) (-) (-) (,) (;) (...)
- E) (,) (-) (-) (,) (;) (.)

- 15.** Kentsel düş gücünü heceleyenler, kentin karakteri olan nesnelere, kentin tarihine tanıklık eden ve onunla bütünleşen varlıklar olarak kendilerini kabul ettirir. Dilsiz güçler rolünde hep sahnededirler. Galata Kulesi, Beyoğlu'nun yıkık dökük evleri, bir avlunun gölgesindeki zarif bir kuyu, kim bilir güneşin yakıcılığında hangi sohbetlere siper olmuş görkemli asırlık çınarlar, yüzyıllık bir çeşme, küçük bir fotoğrafçının vitrinini süsleyen eski aile fotoğrafları... Bu nesnelere işlevi; varlıklarıyla kentin romanını yazmak, varlıklarını sürdürürken çağın yüklediği yeni anlamlara rağmen kente sahip çıkmaktır.

Bu parçanın anlatımında aşağıdakilerden hangisi vardır?

- A) Öyküleme B) Örneklendirme
- C) Tanık gösterme D) Tanımlama
- E) Karşılaştırma

- 16.** (I) John B. Watson tarafından, insan davranışlarını açıklamak için davranışçılık kuramı geliştirildi. (II) Davranışçı psikolojiye göre nesnel yöntemlerle gözlemlenemeyen zihinsel süreçlerin incelenmesinin bir anlamı yoktu. (III) Pavlov, Skinner gibi bilim insanlarının Watson'ın görüşlerine katılmasıyla kuram yaygınlık kazandı. (IV) Davranışçı psikoloji öğrenmeyi, uyarıcı ve tepki arasındaki bağla açıklayarak psikanalitik görüşün belirttiği etkinin geçerli olmadığını ileri sürdü. (V) Uyarıcı olarak nitelendirilen çevresel faktörler, kişilerde olumlu veya olumsuz davranışlara neden oluyordu. (VI) Olumsuz davranışlara yol açan uyarıcılar kaldırılarak olumlu davranışları oluşturanlar eklendiğinde bireyin kendini geliştirmesi bekleniyordu.

Bu parça iki paragrafa ayrılmak istense ikinci paragraf numaralanmış cümlelerin hangisiyle başlar?

- A) II B) III C) IV D) V E) VI

17. (I) Asya'dan gelen göç dalgaları zaman zaman Batı Avrupa ülkelerinde büyük direnişleri tetiklemiştir. (II) Bununla beraber düşük doğum oranıyla başa çıkabilmek için Batı Avrupa, doğrudan göçmenlere ihtiyaç duymuştur. (III) Batı Avrupalıların iş, kültür ve kimlik açısından tehdit altında olduklarına dair oluşan kaygı, direnişlerin temelini oluşturur. (IV) Düşüncelerinde haklı olsalar da göçün topluma kazandırdığı değerlerin altı çizilirse bu kaygıların giderilmesi de kolaylaşır. (V) Göçmenleri ağırlayan toplumlar, çeşitliliği bir zenginlik olarak görmeye başladığında tehdit ve kaygının sadece toplumsal bir refleks olduğu anlaşılır.

Bu parçada numaralanmış cümlelerden hangisi düşüncenin akışını bozmaktadır?

- A) I B) II C) III D) IV E) V

18. Sinema ve spor dendiğinde akla gelen başarılı filmler yok mudur? Olmaz olur mu! Zaman zaman usta yönetmenler bu konudaki klişeleri aşip sporu filmlerine ustaca yerleştirmişlerdir. Mesela Fabri'nin unutulmaz filmi *Cehennemde İki Devre* bunlardan biridir. Bu önemli film, savaş sırasında bir Alman toplama kampında, kamp yöneticileriyle tutsaklar arasındaki bir futbol maçının, tutukluların kaçması için bir fırsata dönüştürülmesini ustaca anlatır. ----. Buna benzer şekilde unutamadığım diğer bir film de Hitchcock'un *Trendeki Yabancılar*'ı ve bu filmin ünlü tenis sahnesidir.

Bu parçada boş bırakılan yere düşüncenin akışına göre aşağıdakilerden hangisi getirilmelidir?

- A) Ama spor, yalnızca izleyiciyi kendine çekmek için futbolun geriliminden ve çalımından ibaret bir etkinlik değildir
- B) Sinema izleyicisinden çok futbol meraklılarının ilgisini çeken bu tarz filmlerin popülerleşmesi doğaldır
- C) Bu filmi izleyenler sadece bir filmin değil aynı zamanda bir futbol maçının heyecanını içlerinde duyar
- D) Film yorumcuları kadar spor eleştirmenlerinin de eleştirdiği film gerçekçilikten uzak bulunmuştur
- E) Spor ve sinema ilişkileri üstüne bir yazı yazmak için aslında ikisinin de iyi bir izleyicisi olmak gerekiyor

19. İnsanlar duygu ve akıl arasında tutturdıkları dengeyle ayakta kalır ve yaşam denen yolda ilerler. Bunlardan birinin, kontrolü tamamen ele geçirmesi felaket getirebilir. Bu gerçek şöyle bir benzetmeyle aktarılır: Bir at arabasındasınız ve arabanız, güçlü iki at tarafından çekiliyor. Atlardan biri aklın, diğeri duygunun temsilcisi. Bir at sizi sürekli yolun bir tarafına, öbürü de diğere tarafına çekmeye çalışıyor. Sizin işiniz ----.

Bu parçanın sonuna düşüncenin akışına göre aşağıdakilerden hangisi getirilmelidir?

- A) güvenli bir şekilde ilerleyebilmek için dizginleri sıkı sıkı tutmaktır
- B) bir tarafın sizi uçuruma yuvarlamaması için arabadan atlayacağınız anı iyi belirlemektir
- C) bu iki atın fırsatlar sundukları kadar kötü bir son getirebileceğini de aklınızda tutmaktır
- D) atların çekişmesinin ilerlemenize engel olduğunu görünce güvenilir olan atı seçmektir
- E) rasyonellik adına aklınızın buyruğuna girmek yerine sezgilerinize kulak vermektir

20. (I) Batı etkisindeki çağdaş Türk şiiri eskiyi yok sayarak, eskiden gelen her şeyi silip atarak gelişmedi. (II) Kısa sürse de eskiye karşı zorlu çıkışların yapıldığı, geçmişin küçümsendiği dönemler olmadı değil. (III) Ama çağdaş şiirimiz, edebiyatımızın çok daha eski dönemlerinin güzel ürünlerinden, güçlü ustalarından zaman zaman etkilendi. (IV) Sanatçılar, divan edebiyatı ve halk edebiyatının kimi unsurlarını eserlerine bazen örtülü olarak bazen de açıkça taşıdı. (V) Hatta bunların arasında çağdaşlıklarından hiçbir şey yitirmeden divan şiiri tarzında yazmayı deneyenler de oldu.

Bu parçada numaralanmış cümlelerin hangisinden sonra "Eski şiire özgü üslubun çağdaş şiirde kullanılıp kullanılmayacağı konusunda tartışmalara girdi." cümlesi getirilebilir?

- A) I B) II C) III D) IV E) V

21. Bu, kültüre hangi açıdan yaklaştığımızla ilgilidir. Nitekim bu alanda çalışan bilim insanlarının hemen hepsinin onu yeniden tarif etme çabası da bunu göstermektedir. Bununla beraber şimdiye kadar ortaya atılan bütün tarifler gözden geçirildiğinde hepsinde ortak olanı ve bu terimle ne kastedildiğini anlamak kolaydır.

Bu sözler aşağıdaki sorulardan hangisine karşılık olarak söylenmiş olabilir?

- A) Kültürel yozlaşmanın temelinde yatan sebepler nelerdir?
- B) Kültürün farklı şekillerde tanımlanmasıyla ilgili ne düşünüyorsunuz?
- C) Sizce kültür, toplumdaki topluma değişen bir olgu mudur?
- D) Bugün kültürler arasındaki farklılıklar nasıl açıklanabilir?
- E) Toplamlar, son yıllardaki kültürel değişimlerden nasıl etkileniyor?

22. Resim eleştirmenleri eserleri incelerken belirli bir yöntemle bağlı kalırlar. Betimleme, çözümlenme, yorumlama ve yargıya varma olmak üzere dört işlem basamağını kapsayan bu yöntemle eserden bilgi edinirler. Yöntemin ilk aşamasında tabloda yer alan ve gözle görülen her nesne tek tek listelenir. İkinci aşamada bu nesnelere resmin içine yerleştirilirken nelere dikkat edildiği örneğin konum, renk, kontrast, ton gibi niteliklerin nasıl kullanıldığı belirlenir. Üçüncü aşamada ressamın kullandığı nesnelere ve bunların organizasyonu ile vermek istediği mesaj ortaya çıkarılır. Son aşamada ise o ana kadar elde edilen bütün veriler bir arada değerlendirilir, eseri iyi veya kötü kılan özellikler ortaya konur ve incelenen eserin niteliği hakkında nihai karara varılır.

Aşağıdakilerden hangisi bu yöntemi kullanan bir resim eleştirmeninin süreç içinde soracağı sorulardan biri olamaz?

- A) Verilmek istenen mesaj, hangi obje ve varlıklar kullanılarak aktarılmaktadır?
- B) Ressam, tabloda görülen bileşenlerin organizasyonunda nelere dikkat etmiştir?
- C) Ressam, bu eserinde tam olarak ne anlatmak istemektedir?
- D) Ressamı başarılı yahut başarısız yapan temel nitelikler nelerdir?
- E) Eser, hangi güçlü ve zayıf yönleriyle diğer yapıtlardan ayrılmaktadır?

23. Bir antropolog olarak antropolojinin yöntemlerini, kendi kültürüme bakıp içinde yaşadığım dünyayı incelemek için kullanmaya karar verdim. Sayıları gittikçe artan şirket antropologlarından biri oldum. Zaten, egzotik bir şeyler bulmak için çok da uzaklara gitmeye gerek yok. Yapmamız gereken, bu betondan ormanda insanların iş dünyasında ayakta kalmak için hangi rekabet içgüdülerine güvendiklerine, bireysel ve örgütsel hareketlerinde ne tür davranış kalıplarını benimsediklerine odaklanmak.

- I. Sanayileşmemiş bölgelerdeki yerli halkların kültürleriyle şehir kültürü arasındaki farklar
- II. Kurumsallaşmış şirketlerdeki çalışanların bireysel başarı elde etmek ve grup içinde yükselmek için geliştirdiği stratejiler
- III. Belli bir sektörde çalışanların bir grup kültürü geliştirmesini sağlayan kişisel ve sosyal dinamikler

Yukarıdakilerden hangileri bu sözleri söyleyen kişinin çalışma alanına girer?

- A) Yalnız I B) Yalnız II C) I ve III
D) II ve III E) I, II ve III

24. Çıracak Foma, ustası Rublev'e, "Ben maviyi herkesten daha iyi görüyorum." der. Bunun üzerine Rublev de "Sana artık bir şey öğretemem çünkü sen her şeyi bildiğini sanıyorsun." diye karşılık verir.

Aşağıdakilerden hangisi bu parçada anlatılmak istenen düşünceyle örtüşmektedir?

- A) Mutlak başarı, ustaları aşmakla mümkün olur.
B) Becerisini kutsayan kişi kendini bilgiye kapatmıştır.
C) Kendine güvenen çırağın ustaya ihtiyacı yoktur.
D) Bilgisinden emin olmak, ustalara özgü bir erdemdir.
E) Çıracak, hatasını ustanın hoşgörüsü sayesinde görebilir.

25. QWERTY sisteminin kullanıldığı daktilo, harf düzeninin sıkışmasını en aza indiren, ticari anlamda başarılı ilk daktilo olarak 1874'te ortaya çıkmıştır. Ancak QWERTY klavyesinde vuruşların %32'si orta, %52'si üst ve %16'sı da ulaşması en zor olan alt sırada yapılır. Dahası bu diziliş, daha zayıf olan sol elin ve en zayıf olan serçe parmağın çok fazla kullanılmasını gerektirir. Ayrıntılı çalışmaların ardından Dvorak 1932'de, QWERTY klavyesini öğrenmek için gereken zamandan daha kısa sürede öğrenilebilen, klavye kullanıcısının başarısını ve hızını büyük oranda artıran yeni bir klavye geliştirdi. Ancak Dvorak klavyesi, o günden bugüne İngiliz dilinin standart klavyesi QWERTY'nin yerini alamadı.

Bu parçadan hareketle aşağıdakilerin hangisine ulaşılabılır?

- A) Bir yeniliğin eski yöntem veya fikirden belirgin şekilde iyi olması uzun vadede de olsa toplumda kabul edileceğini gösterir.
B) İcat edilen aletlerin ortaya koyduğu yenilikler, bu aletlerin esas amacının dışında farklı amaçlara da hizmet etmesine neden olur.
C) Yeniliği ortaya çıkaran kişinin unvanı, bu yeniliğin insanlar tarafından kullanılma olasılığının artmasında etkilidir.
D) Bir yeniliğin benimsenmesi için toplumun gereksinim, değer ve hedefleriyle görece uyum içinde olması gerekir.
E) Uyum sağlamayı gerektiren bir yeniliği kabul etmek yerine alışkanlığa bağlı kalmak insanlara daha kolay gelir.

26. Türk edebiyatında ve sosyolojisinde Batılılaşma olgusuna ilişkin, karmaşık süreçlere işaret eden geniş bir literatür mevcut olmakla birlikte, bu çalışmada *Hacivat Karagöz Neden Öldürüldü* filmi incelenirken Kemal Tahir'in görüşlerinden hareket edilmiştir. Bunun da başlıca nedeni, Kemal Tahir'in Batılılaşma ve sorunlarını, Osmanlı Devleti'nin kuruluş döneminden itibaren ele alıp sorgulamasıyla özgün bir yaklaşım ortaya koymuş olmasıdır. Ancak filmin yönetmen/senaristiyle Kemal Tahir'in devlet ve toplum konusundaki görüşleri arasında belirgin ayrımlar bulunmaktadır. Diğer yandan bugünün sorunlarının kaynağının Osmanlı'nın kuruluş dönemine kadar götürülmesi ve tarihe yaklaşım biçimleri bakımından ise pek çok benzerlik de göze çarpar.

Bu parçada söz edilen filmle ilgili aşağıdakilerden hangisi söylenebilir?

- A) Kemal Tahir, filmdeki içeriği Osmanlı'da Batılılaşma olgusu temelinde ele almıştır.
- B) Yönetmen/senarist, filmi Kemal Tahir'in görüşlerine dayanarak oluşturmuştur.
- C) Film, Kemal Tahir ve yönetmen/senaristin ortak bir çalışması olarak ele alınabilir.
- D) Kemal Tahir'in görüşleri filmi incelemede önemli bir dayanak noktası sunmaktadır.
- E) Filmde olay, Osmanlı Devleti'nin kuruluş yıllarında geçmektedir.

27. Ey insan! Etrafında yarattığın düşmanlar seni kendi kusurlarının, eksikliklerinin farkına varmaktan alıkoyar. Başkalarını cezalandırdığın, aşağıladığın hatta yok ettiğin sürece dikkatini kendi içine yöneltemezsin. Böylece kendinle yüzleşme ihtiyacı da hissetmezsin. Yarattığın düşmanlar çaresizliklerinin yerini alır, onlar sayesinde zayıflıklarının üstünü örtersin. Şunu aklından çıkarma: "Sandığın gibi başkalarının günahları, seni aziz yapmaz!"

Bu parçadan hareketle aşağıdakilerden hangisine ulaşılabılır?

- A) Bireyin dışarıya ve başkalarına yansıttığı öfke ve nefret, zamanla kendi zaaflarından arınmasına neden olur.
- B) Bireyin yaşadığı toplumdaki öteki bireylerin hatalarına karşı geliştirdiği tavır, kendi benliğiyle kurduğu bağı güçlendirir.
- C) Ötekileştiren ve ötekini düşman gibi gören birey, kendini eleştirme ve yargılama ihtiyacını hissetmeyerek kendini yüceltir.
- D) Bireyin çevresindeki insanları tehdit olarak algılamasının temelinde toplumdan yalıtılmış bir hayat sürmesi yatar.
- E) Kendilerine ve başkalarına yönelttikleri eleştirel sese kulak vermeyi başarabilenler hatasız ve dengeli bir yaşam sürerler.

28. Doğa bilimleri gibi tarih de zorunlulukların ve doğal düzenin insan hayatını, belli ölçüde de olsa, etkilediğini kabul eder. Tarihî olaylar, onları ortaya çıkaran şartların nedensellik ilkesi göz önünde tutularak açıklanmasıyla anlamlandırılır. Belirli iklimsel ve ekolojik şartların olaylar üzerindeki etkisi hesaba katılmadan salt kaynaklardan ve kanıtlardan yola çıkarak sonuçlara varmak mümkün ve anlamlı değildir. Bununla birlikte tarih biliminin görevi, tarihî olayları kendi özellikleri içinde incelemektir. Tarihî olayların gelişiminde genelgeçer kanunları ve bunların olaylar üzerindeki etkisini araştırmak, tarih biliminin değil belki de tarih felsefesinin görevidir.

Bu parçaya göre aşağıdaki önermelerden hangisi tarih biliminin bakışıyla örtüşür?

- A) Her tarihî olay kendi coğrafi koşulları içinde incelenir.
- B) İnsanlık tarihindeki olaylar çoğunlukla tekrar eder.
- C) Tarih bilimi de doğa bilimleri gibi kanunlar koyar.
- D) Tarih bilimi sadece yazılı belgeleri dikkate alır.
- E) Tarih felsefesi genellemeler yapmaktan kaçınır.

29. “Ne yapmalıyım?” sorusu “Ne yapıyorum?”, “Ne yaptım?”, “Ne yapacağım?” sorularından farklıdır. Ne yapıyor olduğum, ne yaptığım veya ne yapacağımda bir betimleme söz konusudur; gözleriniz, hafızanız veya yazdıklarınız bunların gerçekliğini kanıtlamaya yeter. Ama ne yapmam gerektiği, bir betimleme değil bir soruşturmadır, bir yol arayışıdır. Betimlemeyle yol arayışı arasındaki ayırım, gerçeklik ile etik arasındaki farkı ortaya koyar.

Bu parçadan hareketle etik aşağıdakilerin hangisinde doğru tanımlanmıştır?

- A) Ahlaki olarak en doğru olanın er geç hâkim gerçekliğe dönüşeceğini savunan bir felsefe kuramıdır.
- B) İdeal olana ulaşmak için geçmişte yapılan hatalardan dersler çıkarmayı öneren pratik bir düşüncedir.
- C) Olgular temelinde sınılanabilecek, kanıtlanması mümkün bir açıklama değil gerekli olanı arayan bir sorgulama türüdür.
- D) Geçmiş ve gelecek arasında bir bütünlük gözeten, doğrunun her çağda kendini tekrarladığını savunan bir disiplindir.
- E) Olması gerekeni, doğruluğu ve adaleti en fazla kişinin ortak faydasına sabitleyen bir akıl yürütme yöntemidir.

30. Ozanlar, şiirin düzyazıdan üstünlüğü konusunda kanıt üretmeye bayılır. Şiir kolay ezberlenir, demek ki üstündür; kısadır, demek ki üstündür; zor anlaşılır, demek ki üstündür. Kimileri de düzyazının anlatım gücünün bir yerde tükendiğine ama şiirin anlatım gücünün hiç tükenmediğine inandıklarından “Şiir, düzyazının bittiği yerde başlar.” deyip çıkarlar işin içinden. Düzyazının bir yerde tıkanıp nereden çıkarırlar bilinmez.

Bu parçanın yazarının aşağıdakilerden hangisini söylemesi beklenir?

- A) Şiirin dile getirdiğini roman da öykü de dile getirebilir, sorun sanatçının hangi türde yazdığında değil başarısındadır.
- B) Bir şiiri kafamızda yıllarca taşıyabiliriz ama düzyazıyı değil, onun ağırlığı yaşamın odağına yerleşmesini engeller.
- C) Şiirin giriftliği karşısında romanın, öykünün kendini okuruna açması, kolayca anlaşılır olması okurun seçimlerini etkiler.
- D) Şairleri kendi konularının altını çizmeye iten şey, düzyazının günümüz okurları tarafından gördüğü yoğun rağbettir.
- E) Her türün yükseldiği dönemler vardır; şiir yavaşladığında düzyazı, düzyazı yeni ufuklar bulamadığında şiir öncülüğü üstlenir.

31. Yeni nesil, maaş değil unvan peşinde!

Bir araştırma şirketi, maaşlı çalışan 18-25 yaş aralığındaki 830 kişiyle yaptığı görüşmede kişilere unvan tercihine yönelik sorular sormuştur. Araştırma sonucunda katılımcıların %80'inin "Çalıştığım yerdeki önceliğim unvan değil, maaşım." cevabı verdiği, %18'inin "Unvanım yükseltirsem maaşımın aynı kalması önemli değil." görüşünü belirttiği, %2'sinin de "Unvanım yükselirse maaşımın düşmesi benim için önemli olmaz." dediği tespit edilmiştir. Araştırma sonuçları, son dönemde popüler hâle gelen unvan pazarlamasının nasıl yapılacağı konusunda da şirketlere önemli geri bildirimler sunmuştur.

Bu köşe yazısıyla ilgili aşağıdakilerden hangisi söylenebilir?

- A) Kanıtlanamayan varsayımlar üzerinde yorum yapılmaktadır.
- B) Kendi içerisinde tutarsızlıkları ve yanlışlıkları bulunmaktadır.
- C) İstatistik verilerin gerçeği yansıtmadığı ortaya koyulmaktadır.
- D) Güncel bir konunun ekonomik etkilerine değinilmektedir.
- E) Toplumun farklı kesimlerinin bakış açıları karşılaştırılmaktadır.

32. Matisse, aynı mavi tonunun bir santimetrekaresiyle bir metrekaresinin birbirinden farklı olduğunu söyler. Benzer şekilde, mavi bir daire ile aynı maviden yapılmış bir kare farklı tonlardadır. Ona göre bir renk; paletten farklı, fırçadayken farklı, tuvaldeyken farklıdır. Çevresindeki diğer tonların ve şekillerin yarattığı uzam, resmin içindeki ve üzerindeki ışık, nesnelerin düşme ve gerileme oranlarını belirleyen konum; her tonu farklılaştırır. Resme bakanın, binlerce rengin bir çerçeve içinde eritildiğini düşünmesi bundandır.

Matisse'e göre aşağıdakilerden hangisi renk tonunu farklılaştıran bir etken olamaz?

- A) Form ve ışık
- B) Alanın boyutu
- C) Resmin tekniği
- D) Yüzeyin dokusu
- E) Perspektif ve açı

33. Faust, Don Juan ve Don Kişot emellerinin peşinden sabit bir fikirle koşar. Bu karakterlerin her biri aslında mükemmellik arayışıyla kibrin, istisnai bir yiğitlikle yozlaştırıcı bir aşırılığın vücut bulmuş hâlleridir. Söz konusu karakterlere dair tespitlerim, aslında çok daha önce yaratılmış olan bu imgelerin romantik dönem yorumuna dayanan izlenimlerimdi. Ancak Faust'un sırf merak duygusu yüzünden lanetlendiğini, Don Juan'ın gerçekten işkence gördüğünü artık düşünmüyorum. Hatta Don Kişot'un cömertliği bile gerçek mi emin değilim. Fakat bu karakterlerin bireyci toplumumuz için hâlâ özel birer tınısı olduğuna inanıyorum.

Bu parçanın yazarıyla ilgili aşağıdakilerden hangisi söylenemez?

- A) Roman kişilerini, onların karakteristik özellikleri üzerinden değerlendirmiştir.
- B) Roman kahramanlarına ilişkin değerlendirmelerinde değişim olmuştur.
- C) Roman kahramanlarına ilişkin analizlerini belirli bir dönem bağlamında ortaya koymuştur.
- D) İdealizm ve kontrolsüz eylemlerin kurgusal başarıyı artırdığına inanmaktadır.
- E) Roman karakterlerinin toplum üzerinde süregelen bir etkisi olduğunu düşünmektedir.

34. Özgün resimler, yeniden canlandırmanın hiçbir zaman olamayacağı ölçüde sessiz ve dingindir. Bu bakımdan yeniden canlandırma ile karşılaştırılmaz. Çünkü özgün resimde sessizlik ve dinginlik asıl malzemenin, boyanın içine sinmiştir; insan boyada ressamın resmi yaptığı andaki hareketlerinin izlerini görebilir. Bunun, resmin boyanmasıyla insanın ona bakması arasındaki zaman aralığını kapatmak gibi bir etkisi vardır. Bu özel anlamda tüm resimler çağdaştır. Resimlerin çağlarının tanıkları olma özelliği buradan gelir. İçinde yaşadıkları tarihsel an orada, gözümüzün önündedir.

Bu parçadan hareketle özgün resimlerle ilgili aşağıdakilerin hangisine ulaşamaz?

- A) Kendine has bir yapım sırrına sahiptir.
- B) Sanatçının tecrübelerinin ürünüdür.
- C) Zamanın sınırlarını aşan bir gücü vardır.
- D) Oluşturulduğu dönemin izlerini taşır.
- E) Yaratıcısının tekniğini görünür kılar.

35.-36. soruları aşağıdaki parçaya göre cevaplayınız.

Maya, Sezen Aksu'nun 1991'de çıkardığı *Gülümse*'den sonra, Türk pop müziğinin en iddialı ve ses getiren albümlerinden biri. Dinleyiciyle önceden buluşan "Öyle Kolaysa" ve "Ya Bu İşler Ne" şarkılarıyla beğeni toplamışken bunlara eklenen "Fırtınadayım", "Çukur" gibi şarkılarla bu albüm bir başyapıtı dönüşüyor. Böylece *Maya* ile Mabel Matiz, tek atımlık kurşunu olduğu iddialarını da boşa çıkarıyor. Birçok ünlü sanatçının sevilen şarkılarını yorumlayarak daha önceki çalışmasında da cesaretini ortaya koyan Matiz, *Maya* ile geleneğe değmekten korkmayan modern bir anlatım yakaladı. Tasavvufun mistik havası, halk şiirinin coşkun sesi, synth-pop ile birleşen Arap popunun ritimleri ayrı ayrı ve bir bütün olarak duyuluyor albümde. Gözünün gördüğüyle gönlünün bildiği bir olmayan âşıkların acısını söylerken Matiz, Şeyh Galip'ten Neşet Ertaş'a uzanan bir köprü kuruyor. Böylece toplumsal normlara ve hayatı çerçeveleyen ezici gerçeklere rağmen yüreğinin sesini dinleyenlerin çıkmazını anlatıyor. Değmekten, esinlenmekten, beslenmekten korkmuyor.

35. Bu parçada altı çizili sözle anlatılmak istenen aşağıdakilerden hangisidir?

- A) Aşkın yalnızca bir yanılsama olduğunu bilecek kadar olgun olanlar
- B) Kendi isteklerini ve hayatlarını sevdikleri kişi için feda edebilenler
- C) Arzuları ve gerçeklik arasındaki çatışmanın ortasında sıkışıp kalanlar
- D) Gerçek aşkın dış görünüşte değil, âşığın kalbinde olduğunu anlayanlar
- E) Mükemmel aşkı beklemenin ve aramanın boşuna olduğunu bilenler

36. Bu parçaya göre Mabel Matiz ile ilgili aşağıdakilerden hangisi söylenemez?

- A) Kültürel ve tarihî çeşitliliği yansıtan bir sese ve anlatıma sahip olduğu
- B) Türk müzik piyasasında büyük bir ilgi uyandırmayı başardığı
- C) Kendisiyle özdeşleşmiş yürekli yaklaşımını *Maya* albümünde de sürdürdüğü
- D) Modern insanın hikâyesini evrensel tınılardan çok, yerli öğelerle aktardığı
- E) Uzun süre aynı başarıyı sürdüremeyeceğini savunmaları haksız çıkardığı

37.-38. soruları aşağıdaki parçaya göre cevaplayınız.

Stephen King'in yayımlanır yayımlanmaz bir efsaneye dönen romanı *O (It)*, 27 senede bir uyanan meçhul bir kötülüğü ve bu kötülükle baş etmeye çalışan bir grup genci anlatır. Kitaba adını veren O, palyaço formunda olmakla birlikte dünyadaki bütün kötülerden daha kötü bir şey olarak tasvir edilir. Karşısındaki insanın en korktuğu şeyin biçimini alan bir varlıktır. Bu durum Harry Potter'ın roman dünyasına da aynen taşınmıştır. Ancak asıl ilginç olan İngilizce orijinal adı "it" sözcüğünde gizlidir. Bu sözcüğün Almancadaki karşılığı olan "es", üçüncü tekil nesnelere için zamir olarak kullanılmasının yanı sıra Freud'un nesnel gerçeklerden bağımsız ve öznel yaşantı dünyası "id" için kullandığı sözcüktür. Gerçekten de karakterin zihnin kanalizasyonlarından çıkmayan ama batmayan da bir şey oluşu, akla ilk önce Freudyen bir id'i getirir.

37. Bu parçada O adlı romanla ilgili aşağıdakilerden hangisine değinilmemiştir?

- A) Okuyucu tarafından büyük ilgi gördüğüne
- B) Adının farklı dildeki karşılığına
- C) Başka bir romanla benzerliğine
- D) Ana hatlarıyla içeriğine
- E) Sinemaya uyarlandığına

38. Bu parçaya göre O karakterinin Freud'un id kavramını çağrıştıran yönü aşağıdakilerden hangisidir?

- A) Bütün kötülerden daha kötü bir şey olarak tasvir edilmesi
- B) Bilinçaltının derinliklerinde kaybolmaksızın saklanabilmesi
- C) Bireyi içgüdüsel tepki vermeye zorlaması
- D) Gerçek niyetini bir palyaço görüntüsünün altına gizlemesi
- E) İnsanın bilinçaltındaki korkularını hatırlatması

39.-40. soruları aşağıdaki parçaya göre cevaplayınız.

Gerçek dünyadaki somut durumların benzerlik ve farklılıklarından yola çıkılarak temel yönlerinin ortaya konmasıyla araştırmacılar tarafından inşa edilen kurgulara "ideal tipler" adı verilir. Bir ideal tip, dünyayı gözlemlemekte kullandığımız bir bakış açısına benzer. Örneğin demokrasi, siber suçlar, tüketim toplumu veya otoriteyle ilgili açıklayıcı önermeler sunmak için ideal tiplere başvurulabilir. Ancak bu kurguları oluşturmadaki amaç, olgunun bütün özelliklerini ortaya koymak değil, araştırmacıya açıklama ve karşılaştırma yapma veya varsayımlar kurma imkânı sağlayan yardımcı bir araç sunmaktır. İdeal tipler, araştırmacının incelediği olguyla ilgili gerçeğe ilişkin bazı problemleri ifade etmesine olanak sağlayan bir referans çerçevesidir. Bundan dolayı ideal tiplerin hiçbir suretle doğru veya yanlış olduğu ifade edilemez.

39. Bu parçaya göre ideal tiplerle ilgili aşağıdakilerden hangisi söylenemez?

- A) Gündelik yaşamdaki olay ve olgulara ilişkin gözlemlerden doğar.
- B) Kurgu olarak tasarlandığından sosyal gerçeklikle farklılık gösterebilir.
- C) İşlevi konusunda araştırmacılar arasında görüş farklılıkları bulunmaktadır.
- D) Sosyal olay ve olguları açıklamada kullanılacak örnek niteliğine sahiptir.
- E) Araştırmacıların ele aldığı nesne hakkında fikir yürütmesine imkân sağlar.

40. Bu parçaya göre ideal tiplerin doğru veya yanlış olduğunun söylenememesinin nedeni aşağıdakilerden hangisidir?

- A) İdeal veya saf olan gerçek bilginin tam olarak gözlemlenememesi
- B) Olgunun tam tanımına ulaşıldıktan sonra ideal olma özelliğini yitirmesi
- C) Sosyal dünyayı tanımlayıcı özelliklerin bir bütünlük oluşturamaması
- D) Gerçekliğin daha çok ana unsurlarını yansıtan bir sınır çiziyor olması
- E) Olguları anlaşılır kılacak benzerlikleri belirlemede zorluk yaşanması

1. Bu testte sırasıyla, Tarih (1-5), Coğrafya (6-10), Felsefe (11-15), Din Kültürü ve Ahlak Bilgisi (16-20), Din Kültürü ve Ahlak Bilgisi dersini yasal olarak almak zorunda olmayan veya farklı müfredat ile alanlar için Felsefe (21-25) alanlarına ait toplam 25 soru vardır.

2. Cevaplarınızı, cevap kâğıdının Sosyal Bilimler Testi için ayrılan kısmına işaretleyiniz.

1. Doğu-batı ticaret yolları üzerinde bulunan Uygurlar farklı inanç ve kültürlerden etkilenmişlerdir. Çin'den Budizmi, İran'dan Maniheizmi alan Uygurlar, Akdeniz Havzası'ndan Suriyeli rahipler ve Soğdlar aracılığıyla da Hristiyanlığı, Helenistik edebiyatı ve sanatı öğrenmişlerdir.

Buna göre Uygurlar ile ilgili aşağıdakilerden hangisine ulaşamaz?

- A) Geniş bir coğrafya ile ilişki kurduklarına
- B) Farklı dinleri benimsediklerine
- C) Hoşgörülü bir toplum oluşturduklarına
- D) Kültürel etkileşime açık olduklarına
- E) Hâkim hayat tarzlarının göçebelik olduğuna

2. Anadolu Selçuklu Devleti, 8 Mart 1220'de Venedik ile dostluk ve ticaret anlaşması yapmıştır. Buna göre Selçuklu topraklarında Venediklilerin kendi aralarında veya diğer yabancılarla olan anlaşmazlıklara, oluşturulacak bir mahkeme heyeti tarafından bakılmasına izin verilmiş ancak hırsızlık ve adam öldürme gibi suçlarda Selçuklu mahkemelerinin yetkili olduğuna karar verilmiştir.

Bu bilgiyle;

- I. Hristiyanların tek temsilcisinin Venedikliler olduğu,
- II. Venedik'e Selçuklu ülkesinde ayrıcalıklar tanındığı,
- III. Selçuklu sultanının ticareti canlandırmak istediği

yargılarından hangilerine ulaşılabilir?

- A) Yalnız I
- B) Yalnız II
- C) I ve II
- D) I ve III
- E) II ve III

3. Tanzimat Dönemi aydınlarına göre; Balkanlardaki isyanların sona ermesi için Osmanlılık düşüncesinde birleşilmesi ve Batı tarzında yenilikler yapılması gerekiyordu.

Aşağıdakilerden hangisi bu doğrultuda gerçekleşmiştir?

- A) Sened-i İttifak'ın imzalanması
- B) Meşrutiyetin ilan edilmesi
- C) Meşveret Meclislerinin açılması
- D) Daimi elçiliklerin kurulması
- E) Yeniçeri Ocağı'nın kaldırılması

4. Mondros Mütarekesi sonrasındaki işgaller karşısında toplumda başlayan tepkinin bir sonucu olarak 19 Mayıs 1919'da yaklaşık 75 bin kişinin katıldığı Fatih Mitingi ve 23 Mayıs 1919'da yaklaşık 200 bin kişinin katıldığı Sultanahmet Mitingi yapıldı.

Bu bilgi ve dönemin koşulları dikkate alındığında aşağıdakilerden hangisine ulaşamaz?

- A) Ulusal bilincin giderek arttığına
- B) İzmir'in işgalinin tepkiyle karşılandığına
- C) Mütareke hükümlerinin uygulandığına
- D) Amasya Genelgesi'nin etkili olduğuna
- E) İstanbul halkının duyarlılık gösterdiğine

5. İngiltere'nin eski Başbakanı Lloyd George; "Türkler, İngiltere'nin dört savaş yılı içinde aldığı her şeyi geri aldılar. Bu, İngiltere'nin dış siyasetinde silinmez bir lekedir." demiştir.

İngiltere Başbakanı bu ifadeyi aşağıdakilerden hangisiyle ilgili kullanmıştır?

- A) Londra Konferansı B) Paris Barış Konferansı
C) Lozan Antlaşması D) Ankara Antlaşması
E) Moskova Antlaşması

6. I. Atmosferdeki su buharının tamamına yakını bu katmanda bulunur.
II. Canlıları Güneş'in zararlı ışınlarından koruyan ozon tabakası bu katmanda yer alır.
III. Bu katmanda sıcaklıklar genel olarak aşağıdan yukarıya doğru düşer.
IV. Gazların bir kısmının bu katmanda iyonlara ayrılmasıyla radyo dalgaları yansıtılır.

Yukarıdakilerden hangileri troposferin özellikleri arasında yer alır?

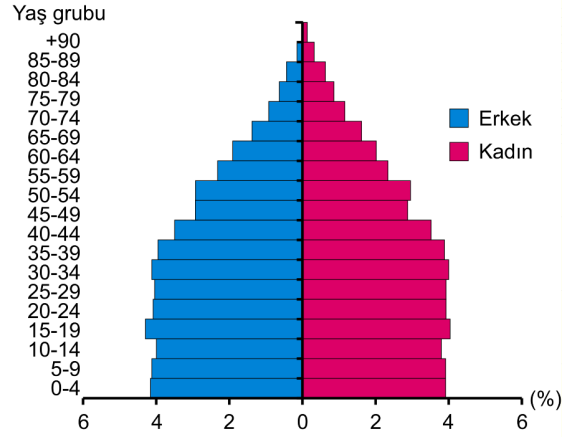
- A) I ve II B) I ve III C) II ve III
D) II ve IV E) III ve IV

7. Suda kolay çözünen kayaçların bulunduğu yerlerde çözünme sonucunda çeşitli büyüklüklerde çanaklar oluşmaktadır. Obruk, dolin, uvala ve polye bu tür çanakların başlıcalarıdır. Zamanla bu çanakların sularla dolması sonucunda meydana gelen göllere ise karstik göller denilmektedir.

Bu göllerin aşağıdaki kayaç türlerinin hangisinin yaygın olduğu alanlarda daha fazla oluşması beklenir?

- A) Kireç taşı B) Bazalt C) Granit
D) Şist E) Çakıl taşı

8. Aşağıda, bir ülkenin 2015 yılına ait nüfus piramidi verilmiştir.



Bu piramitteki bilgiler dikkate alındığında aşağıdakilerden hangisine ulaşamaz?

- A) 65 ve üstü yaş grubundaki nüfus oranına
B) Ülkedeki kadın nüfus oranına
C) 0-14 yaş grubundaki erkek nüfus oranına
D) Yıllık nüfus artış hızı ve oranına
E) 15-19 yaş grubundaki nüfus oranına

9. Bölge sınırları, bölgeyi oluşturma amacı ve ölçütlerine göre değişiklik gösterebilir.

Sınırlardaki bu değişiklik;

- I. karasal iklim bölgesi,
II. kuru tarım bölgesi,
III. karstik kayaçlar bölgesi,
IV. serbest ticaret bölgesi

türlerinin hangilerinde daha kısa sürede gerçekleşebilir?

- A) I ve II B) I ve III C) II ve III
D) II ve IV E) III ve IV

10. Aşağıdaki haritada bazı alanlar numaralandırılarak gösterilmiştir.



Bu alanların hangisinde sel ve taşkınların görülme sıklığı daha azdır?

- A) I B) II C) III D) IV E) V
11. Hazzi insan yaşamının bir ereği olarak kabul eden Epiküros, hazdan ne anladığını ise şöyle açıklar: "Hazzın bizim için hayatın en üstün amacı olduğunu söylemekle ne sadece her şeyin tadını çıkarmak isteyen uçarıların zevklerini ne de maddi hazların sınırsızca doyurulmasını kastediyorum. Bunu yalnız, doktrinimizi anlamayan bilgisiz insanlar ya da kötülük olsun diye anlamaz görünenler söyler. Bizim için haz, beden alanında acı çekmemek, ruh alanında da hiçbir huzursuzluk duymamaktır."

Bu parçadan aşağıdaki yargıların hangisi çıkarılamaz?

- A) Haz, anlamlı bir yaşamın biricik ölçütüdür.
- B) Acıdan mümkün olduğunca kaçınmak gerçek hazzı ulaşmanın bir yoludur.
- C) Maddi hazlardan daha çok ruhsal huzurun peşinden koşulmalıdır.
- D) Haz her şeyin tadını çıkarmak ve zevklerin sınırsızca doyurulması değildir.
- E) Gerçek haz, bedensel acıdan bile huzur duyabilmektir.

12. Anselmus, Tanrı'nın var olduğuna dair delile Tanrı kavramının kendisinden doğrudan ulaşılabileceğini savunmuştur. Ona göre, Tanrı kendisinden daha yetkinci düşünülmemeyen, tasavvur edilemeyen bir varlıktır. İfade edildiği şekliyle yetkin varlık fikri bütün insanlarda vardır. Ancak en yetkin varlık olarak Tanrı fikrinin sadece zihnimizde olduğunu kabul etmek, daha yetkinci düşünülmemeyen varlık tanımıyla çelişki yaratır. Çünkü hem zihinde hem de zihin dışında var olan, sadece zihinde var olandan daha yetkindir. O hâlde Tanrı, hem zihinde bulunan bir kavram hem de zihnin dışında var olan olarak vardır.

Bu parçadan aşağıdaki yargıların hangisine ulaşılabilir?

- A) Tanrı kavramının kendisi Tanrı'nın zihin dışında da var olduğunu göstermez.
- B) En yetkin varlık olarak Tanrı zihindeki tüm diğer kavramların kaynağıdır.
- C) Tanrı'nın varlığı deneyime başvurmaksızın apriori bir yöntemle ispatlanabilir.
- D) Tanrı'nın varlığı zihinde diğer kavramlara başvurmadan ispat edilemez.
- E) Mükemmel bir dünyanın varlığından yola çıkılarak Tanrı'nın varlığı ispatlanabilir.
13. Balmumu parçasını alalım; bal peteğinden yeni gelmiş ve henüz kapsadığı balın tatlılığını yitirmemiştir; toplandığı çiçeklerin kokusunun birazını korumaktadır; rengi, betisi görünürdedir; serttir, soğuktur, kolayca ele alınabilir ve parmakla vurulduğunda bir ses çıkarır; kısaca, onda bir cismi seçik olarak tanımak için gerekli her şey bulunur. Ama şimdi konuşurken onu ateşe yaklaşıyorum, tattan geri kalanı uçup gider, kokusu yiter, rengi değişir, betisi yok olur, büyüklüğü artar, sıvılaşır, ısınır, güçlkle dokunulabilir olur ve vurulduğu zaman ses çıkarmaz. Bu değişimden sonra aynı balmumu kalır mı? Kaldığı kabul edilmelidir; hiç kimse bunu yadsımaz, hiç kimse başka türlü yargıda bulunmaz. O zaman bu balmumu parçasında öyle seçik olarak bildiğim neydi?

Descartes, *Meditasyonlar* adlı eserinden alınan bu örneğindeki bilginin kaynaklarından hangisini eleştirmektedir?

- A) Akıl B) Duyu C) Vahiy
- D) Sezgi E) İlham

14. Kant, "Aydınlanma Nedir?" başlıklı yazısında aydınlanmayı, insanın kendi suçu nedeniyle düşmüş olduğu ergin olmayış durumundan kurtulma olarak tanımlar ve insanın ergin olmayışını kendi aklını kullanma cesareti gösterememesine bağlar. Kendi aklını kullanmak bir tür kibir değildir zira aklı kullanmak bütün fikirlere ve hatta kişinin kendi fikirlerine dahi eleştirel yaklaşabilmesini de gerektirir. Fikirler elbette ki bilmenin de yolunu açarlar ancak bilgiyle temellendirilmemiş veya ilişkilendirilmemiş fikirler karşılaştırılmadıkları gibi aralarında doğru bir seçim de yapılamaz. Bu durumda "cehalet" de bir başka fikirmiş gibi durur. Bu bağlamda aydınlanma, cehaletten kurtuluş hareketidir.

Bu parçada aydınlanma düşüncesiyle hangi iki kavram arasındaki ilişki vurgulanmaktadır?

- A) Düşünce özgürlüğü - akla güven
- B) Ahlak - düşünce özgürlüğü
- C) İnsanın değeri - eleştiri
- D) Seçme özgürlüğü - ahlak
- E) Akla güven - bilginin önemi
15. Varoluşçu filozof A. Camus'ye göre insan, üstün olan değerleri yıkabilecek ve kolay edinilemeyen özgürlüğü çabalayarak elde edebilecek olandır. Özgürlük ne yasanın mutlak egemenliği ne de bütünüyle yokluğudur. Yasanın boyunduruğu altında ezilmek de her şeyi istediğimiz gibi yapabilmek de özgürlük değildir. Üstün bir değerle yazgıya yön verilmeyorsa, rastlantı kralı karanlıklar içinde yürüyüşür söz konusu olan. Körün korkunç özgürlüğüdür bu. Bir eylemi yasaklamak veya seçmek, bir değer ya da ereğin varlığını gerekli kılar.
- Bu parçadan aşağıdaki yargıların hangisine ulaşılabilir?**
- A) Özgürlük, seçimlerimize dışsal bir müdahalenin yokluğudur.
- B) Her türlü yasa, insanın özgürlüğünü kısıtlar.
- C) Toplum kuralları özgürlük esas alınarak belirlenmelidir.
- D) Özgürlük eylemin amaca yönelik ve değer odaklı olmasıdır.
- E) Bize doğuştan biçilen yazgıya ayak uydurmak özgürlüktür.

16.-20. soruları Din Kültürü ve Ahlak Bilgisi dersini yasal olarak almak zorunda olanlar ve İmam Hatip Okulları öğrencileri/mezunları cevaplayacaktır.

16. Hz. Muhammed'e peygamberlik verildiğinde Mekkeli müşrikler ona hakaret ettiler, "Büyücü!" dediler, iftira attılar. Fakat hiçbir zaman onu yalancılıkla suçlamadılar. Hatta bir defasında içlerinden biri, diğerlerine "Siz akılsız mısınız? Küçüklüğünde aranızda en sevilen, en dürüst olan o idi. Şimdi daha olgun iken bunları nasıl söylersiniz?" diyerek onların bu haksızlıklarını yüzlerine vurmuştur.

Bu parçada Hz. Muhammed'in hangi özelliğine dikkat çekilmektedir?

- A) Akıllı ve zeki oluşuna
- B) Doğru ve güvenilir olduğuna
- C) Emanete riayet ettiğine
- D) Günah işlemekten kaçındığına
- E) Tebliğinde başarılı olduğuna
17. Kur'an-ı Kerim, Hz. Muhammed aracılığıyla tüm insanlara indirilmiş evrensel bir mesajdır. Kur'an'ın ihtiva ettiği anlamlar, derin ve çok yönlüdür. Tarih boyunca Müslümanlar onun anlaşılması ve yorumlanması için tefsir olarak isimlendirilen önemli bir faaliyet ortaya koymuşlardır. Bununla birlikte bu faaliyetin, gelişigüzel yapılmaması için de bazı kurallar belirlenmişler ve tefsirin bunlara göre yapılmasını gerekli görmüşlerdir.
- Aşağıdakilerden hangisinin bu kurallar arasında yer aldığı söylenemez?**
- A) Her ayeti diğerlerinden bağımsız bir şekilde yorumlamak
- B) Hz. Muhammed'in açıklamalarına müracaat etmek
- C) Kur'an'ın indiği dönemin şartlarını bilmek
- D) Her türlü ön yargıdan ve taassuptan uzak durmak
- E) Başta Arapça olmak üzere pek çok alana dair bilgi sahibi olmak

18. Özel yaşam, kişinin sadece kendisine ve izin verdiği yakınlarına ait olan, yabancılarla paylaşmak istemediği hayat alanıdır. Özel yaşamın gizliliği, temel insan haklarından. Bu alanın korunmasına İslam dini de ayrı bir önem vermiş, pek çok ayet ve hadiste özel yaşamın korunmasına dair hususlar vurgulanmıştır.

Aşağıdakilerden hangisi bu ayet ve hadislere örnek verilemez?

- A) "Ey iman edenler! Zannın birçoğundan sakının... Birbirinizin kusurlarını ve mahremiyetini araştırmayın. Birbirinizin giybetini yapmayın...." (Hucurat, 49:12)
- B) "Ey iman edenler! Evlerinizden başka evlere izin almadan, seslenip selam vermeden girmeyin. Eğer düşünürseniz böyle hareket etmeniz sizin için hayırlıdır..." (Nur, 24:27)
- C) "Ey iman edenler! Size bir fasık haber getirirse bilmeyerek bir topluluğa zarar verip yaptığınıza pişman olmamak için o haberin doğruluğunu araştırın." (Hucurat, 49:6)
- D) "Kıyamet gününde insanların Allah nezdinde derecesi en kötü olanı, karı koca sırrını yayan kimsedir." (hadis-i şerif)
- E) "Bir kimsenin evinin içine bakmak hiç kimseye helal değildir." (hadis-i şerif)

19. İnsan, yaşamı boyunca karşılaştığı çeşitli sorulara anlamlı cevaplar üretmeye çalışır. Nereden gelmiştir ve nereye gidecektir? Bu dünya yalnızca kendisinden mi ibarettir? Ölüm geri dönüşü olmayan bir yok oluş mudur? Bu türden sorulara anlamlı cevaplar dinden gelir. Din; dünyayı geçici bir durak ve bir imtihan vesilesi olarak niteler, hayatın bu dünyadan ibaret olmadığını ve gerçek yaşam yerinin ahiret yurdu olduğunu altını çizer. Bu durum, insana kendi gerçekliğini aşan daha büyük bir varoluş zemini sunar. Böylelikle de geleceğe yönelik belirsizlikten kurtulmuş olur.

Bu parçada aşağıdakilerden hangisi vurgulanmaktadır?

- A) Ahireti kazanmanın yolunun bu dünyadan geçtiği
- B) İnançsızlığın, insanı derin bir bunalıma sürükleyeceği
- C) Ölümün, inananlar için sevinilecek bir şey olduğu
- D) Dinin, insana hayatı anlamlandırma imkânı sunduğu
- E) İnsanın, her şeyi aklıyla çözüme kavuşturamayacağı

20. İslam öncesi Arap toplumunda yaygın olan asabiyet anlayışı, bir kimsenin her durumda kabilesini desteklemesi anlamına geliyordu. Öyle ki kabilesinden biri haksız bir şekilde başka kabileden birine saldırdığında dahi kişi kendi kabilesinin yanında yer almak zorundaydı. Ancak İslam; bu konuda haklının yanında olmayı merkeze almış, kişinin kabilesinden biri yanlış yaptığında diğerlerinin bu yanlışta ortak olmamalarını emretmiştir.

Bu parçada aşağıdakilerden hangisi vurgulanmaktadır?

- A) Toplumdaki yanlış kabullerin ortadan kaldırılması zordur.
- B) İslam, insan ilişkilerinin temeline adaleti koymuştur.
- C) Müslüman, her durumda yakınlarını desteklemelidir.
- D) İslam, toplumsal ve kültürel öğelere önem verir.
- E) İslam'a göre bireysel haklar toplumsal haklardan önce gelir.

21.-25. soruları Din Kültürü ve Ahlak Bilgisi dersini yasal olarak almak zorunda olmayan veya farklı müfredat ile alanlar cevaplayacaktır.

21. Bilgeliğe ermiş bir insan artık bilgi ile uğraşmaz çünkü zaten her şeyi biliyordur. Bilgisizler de ne bilgi ile uğraşır ne bilgiye özenirler. Peki bilgisizlik neden kötüdür? Cahil kişi güzellikten, iyilikten, akıldan yoksunken hepsini kendisinde toplamış sanır da ondan. Yoksun olduğunu bilmeyen kimse ne diye kendinde olmayanın peşine düşsün ki? O vakit, bilgiler de bilgisizler de düşmezse bilginin peşine, kimler düşer peki? İkisinin ortasında olanlar düşer elbette. Bilgelik en güzel şeylerden biri, sevgi de her güzelin sevgisi ise ister istemez bilgelik dostu kişi de filozoftur. Yani filozof bilgilerle bilgisizler arasındaki kişinin ta kendisidir.

Platon'un Şölen adlı eserinden derlenen bu parçadan aşağıdaki yargıların hangisine ulaşamaz?

- A) Bilgiyi aramama konusunda bilge ve cahil birbirlerine benzerler.
- B) Filozof, bilgeliğe sahip olmayan fakat onu arzulayan kişidir.
- C) Cahil kişi iyinin ve güzelin farkına varamayandır.
- D) Filozof zamanla bilgisini artırdıkça bilgeliğe erişir.
- E) Filozofun cahilden en büyük farkı neyi bilmediğini bilmesidir.

22. İslam felsefesinde, özgürlük problemi "kader" ve "irade" ile olduğu kadar "akıl" kavramı ile de ele alınmıştır. Örneğin Maturidi, insanın akılla kendi davranışlarını seçtiğini, seçimlerini de iradesiyle eyleme geçirdiğini ve buna bağlı olarak davranışlarından sorumlu olduğunu öne sürmüştür.

Bu parçadan aşağıdaki yargıların hangisine ulaşılabilir?

- A) İnsan önceden belirlenen yazgısına göre eylemlerini gerçekleştirir.
- B) İnsanın istediği gibi seçimlerini yapabileceği bir iradesi yoktur.
- C) İnsan özgürlüğünün temeli akıldır.
- D) İrade, verili seçenekler arasında seçim yapmaya ilişkindir.
- E) İnsan, seçimlerinden sorumlu tutulamaz.

23. Ütopyalar, toplumsal ve siyasal düzenin sorunlu yanlarına işaret eden ve söz konusu sorunlara çözüm önerisi sunan kurgusal düzen tasarımlarıdır. Bu özellikleri nedeniyle düşünce tarihinde genellikle olumlu bir rolü olduğu düşünülen ütopyaların, öte yandan bazı açılardan eleştirilmesi de söz konusudur. Bu eleştirilerin başında ütopyaların, sundukları toplum modellerinin değişmez niteliklere sahip olarak kurgulanmaları nedeniyle aslında değişime kapalı ve dolayısıyla tarihsiz sistemler öngörmeleri gelir. Bu yüzden her ne kadar arzulanan bir yaşama işaret etse de ütopyalar bir yapıyla totaliter bir yapı örneği sergiler.

Bu parçada ütopyalarla ilgili anlatılmak istenen aşağıdakilerden hangisidir?

- A) Durağan toplum modelleri oluşturmaları
- B) Çözüm önerilerinin geçici olduğu
- C) Gerçek hayatta uygulanmalarının zor olduğu
- D) Öznel bakış açılarını yansıttığı
- E) Bireysel özgürlükleri öne çıkardığı

24. Doğuştan ilkeler olsaydı bunların, çocuklarda yetişkinlerde olduğundan daha belirgin olması beklenirdi çünkü çocuklar yerel âdetlerden daha az etkilenmiştir ve daha az dünya deneyimine sahiptir. Çocuklarda böyle ilkeler bulunmadığına göre doğuştan getirilen herhangi bir mantık ilkesi de ahlak ilkesi de yoktur.

Bu parçada ileri sürülen görüş aşağıdaki filozoflardan hangisinin bilgi anlayışına uygundur?

- A) Descartes B) Spinoza C) Kant
D) Platon E) Locke

25. Geleceğin geçmişe benzeyeceği varsayımı herhangi geçerli bir argümana dayandırılmaz. Tamamen alışkanlıktan kaynaklanır. Her şeyin geçmişte olduğu gibi davranacağını varsaymak için yeterli gerekçemiz yok. Evet, bir sonraki oturuşumda bu sandalyenin beni taşıyacağına, bırakmam hâlinde bu kalemin düşeceğine inanıyorum. Ancak şaşırtıcı bir gerçek daha var ki, o da sandalyenin kırılacağını, kalemin havada yükseleceğini varsaymam için de bir o kadar sebebim var.

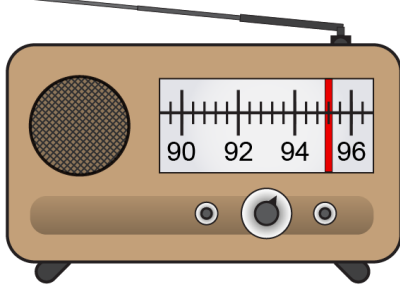
Mantıkçı pozitivistin bu parçada eleştirilen bilimsel yöntemleri aşağıdakilerden hangisidir?

- A) Tümevarım - doğrulanabilirlik
B) Tümevarım - yanlışlanabilirlik
C) Analoji - yanlışlanabilirlik
D) Tümdengelim - yanlışlanabilirlik
E) Tümdengelim - doğrulanabilirlik

1. Bu testte 40 soru vardır.

2. Cevaplarınızı, cevap kâğıdının Temel Matematik Testi için ayrılan kısmına işaretleyiniz.

1. Bir radyonun eşit aralıklara bölünmüş radyo frekansı ayarlama göstergesindeki kırmızı ibre, ayarlanan radyonun frekansını göstermektedir.



Buna göre, şekildeki radyonun kırmızı ibresinin gösterdiği radyo frekansı aşağıdakilerden hangisidir?

- A) 94,2 B) 94,8 C) 95,2
D) 95,4 E) 95,6
2. Bir proje için Türkiye'nin 81 ilinin her birinden 16 okul belirlenmiş ve her okulun müdürüne bir mesaj gönderilmiştir. Sonra, her okulun müdürü de bu mesajı okulundaki 35 öğretmene göndermiştir.
- Buna göre, bu mesajın gönderildiği müdür ve öğretmenlerin toplam sayısı kaçtır?
- A) 4^6 B) 5^6 C) 6^6 D) 7^6 E) 8^6

3. Aşağıdaki kutuların içine $\sqrt{5}$, $\sqrt{8}$, $\sqrt{12}$, $\sqrt{18}$, $\sqrt{20}$ ve $\sqrt{27}$ sayıları, her kutuya farklı bir sayı gelecek şekilde yerleştirildiğinde A, B ve C tam sayı olmaktadır.

$$\square \times \square = A$$

$$\square \times \square = B$$

$$\square \times \square = C$$

Buna göre, A + B + C toplamı kaçtır?

- A) 40 B) 44 C) 48 D) 52 E) 56

4.
$$\frac{\square}{\square} + \frac{\square}{\square}$$

Yukarıdaki kutuların içine -4 , -1 , 2 ve 8 sayıları, her kutuya farklı bir sayı gelecek şekilde yerleştirildiğinde oluşan işlemin sonucu aşağıdakilerden hangisi olamaz?

- A) -10 B) -4 C) -1 D) 2 E) 8

5. Düz bir arazide yer alan bir bina ile bir ağacın yükseklikleri arasındaki fark 8 metredir. Bir süre sonra, ağacın yüksekliği iki katına çıkmış ve bu fark 3 metre olmuştur.

Buna göre, binanın yüksekliği

- I. 13 metre
II. 16 metre
III. 19 metre

değerlerinden hangileri olabilir?

- A) Yalnız I B) Yalnız II C) I ve III
D) II ve III E) I, II ve III

6. Bir para çekme makinesi, istenilen miktardaki parayı 5 TL, 10 TL, 20 TL, 50 TL ve 100 TL değerindeki kâğıt paralardan en az sayıda kullanarak vermektedir. Her kâğıt paradan yeterli sayıda bulunan bu para çekme makinesinden; Ahmet 495 TL, Buse 265 TL ve Cansu 550 TL para çekiyor.

Para çekme makinesinin Ahmet, Buse ve Cansu'ya verdiği kâğıt para sayıları sırasıyla P_A , P_B ve P_C olduğuna göre, aşağıdaki sıralamalardan hangisi doğrudur?

- A) $P_A < P_B < P_C$ B) $P_A < P_C < P_B$
C) $P_B < P_A < P_C$ D) $P_B < P_C < P_A$
E) $P_C < P_B < P_A$

7. a ve b birer tam sayı olmak üzere,

$$a + 5b, 2a + 3b \text{ ve } 3a + b$$

sayılarından ikisinin tek sayı, birinin ise çift sayı olduğu bilinmektedir.

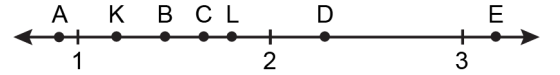
Buna göre,

- I. $a + b$
II. $2a + b$
III. $a \cdot b$

ifadelerinden hangileri bir çift sayıdır?

- A) Yalnız II B) Yalnız III C) I ve II
D) I ve III E) II ve III

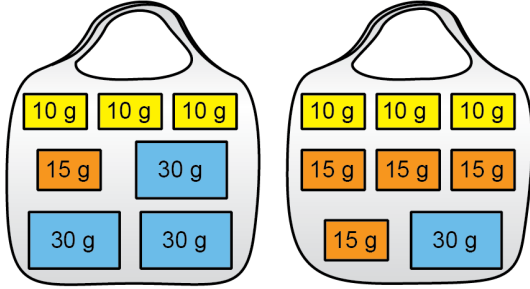
8. Aşağıdaki sayı doğrusunda verilen K sayısının 1'e olan uzaklığı ile L sayısının 2'ye olan uzaklığı aynıdır.



Buna göre, $K \cdot L$ çarpımının değeri aşağıdakilerden hangisi olabilir?

- A) A B) B C) C D) D E) E

9. Fatma ve Uğur'un, bayram ziyaretinde topladıkları 10, 15 ve 30 gramlık çikolatalar aşağıdaki şekilde gösterilmiştir. İki toplam 255 gram çikolata toplamıştır.



Fatma'nın çikolataları

Uğur'un çikolataları

Eve döndüklerinde ikisi de topladıkları çikolataların bazılarını kardeşleri Nilay'a verdikten sonra, üç kardeşin her birinde eşit ağırlıkta çikolata bulunmaktadır.

Nilay'ın başlangıçta çikolatası olmadığına göre, son durumda kaç tane çikolatası vardır?

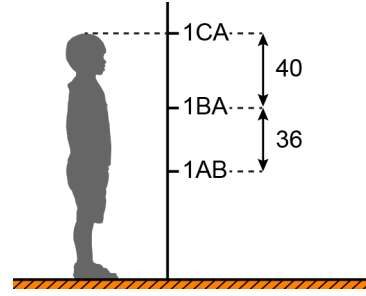
- A) 7 B) 6 C) 5 D) 4 E) 3
10. Rakamları birbirinden ve sıfırdan farklı üç basamaklı bir doğal sayının onlar basamağındaki rakam diğer basamaklarındaki rakamları tam bölüyorsa bu sayıya ortakatlı sayı denir.

Örneğin, 428 bir ortakatlı sayıdır.

Buna göre, en büyük ortakatlı sayı ile en küçük ortakatlı sayının farkı kaçtır?

- A) 723 B) 727 C) 736 D) 742 E) 745

11. Furkan, beşer yıl arayla boyunu duvarın hizasında ölçüyor ve duvara şekildeki gibi işaretleyip santimetre cinsinden üç basamaklı doğal sayılar olarak yazıyor.



Furkan'ın boyunun ilk beş yıl 36 cm, ikinci beş yıl 40 cm uzadığı biliniyor.

A, B ve C sıfırdan farklı rakamlar olduğuna göre, $A + B + C$ toplamı kaçtır?

- A) 15 B) 14 C) 13 D) 11 E) 10

12. Ayla ve Berk'in her birinin 11 tane rakamdan oluşan telefon numaralarındaki bazı rakamlar aşağıdaki gibi verilmiştir.

Ayla \rightarrow 0 5 ** *** 7 2 3 5

Berk \rightarrow 0 5 ** *** 9 4 1 5

Elemanları, Ayla'nın telefon numarasındaki rakamlardan oluşan küme A; Berk'in telefon numarasındaki rakamlardan oluşan küme B olmak üzere,

$$s(A) = 9$$

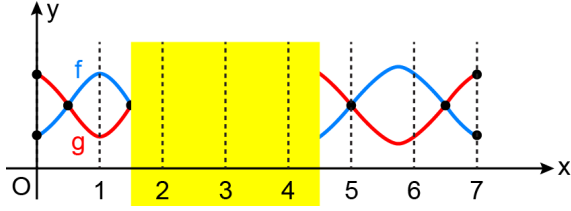
$$s(B) = 6$$

olduğu biliniyor.

$A \cap B = \{0, 1, 4, 5, 6\}$ olduğuna göre, $A \setminus B$ kümesindeki elemanların değerleri toplamı kaçtır?

- A) 18 B) 20 C) 21 D) 26 E) 27

13. Dik koordinat düzleminde $[0, 7]$ kapalı aralığında tanımlı f ve g fonksiyonlarının grafiklerinin bir kısmı şekilde verilmiştir.

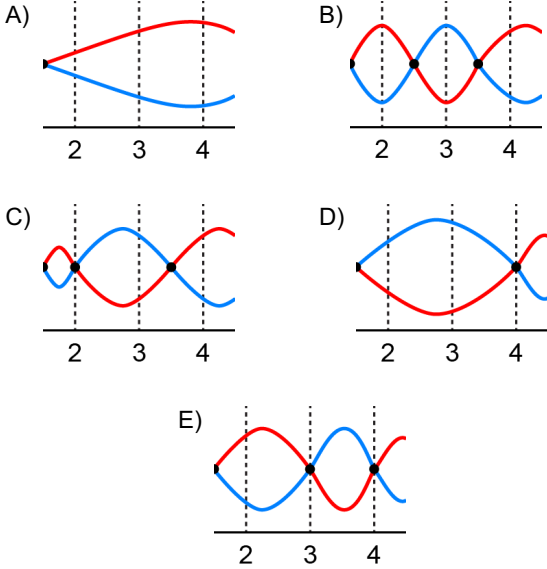


$[0, 7]$ kapalı aralığında;

- 4 farklı a tam sayısı için $f(a) < g(a)$,
- 3 farklı b tam sayısı için $f(b) > g(b)$

olduğu biliniyor.

Buna göre, f ve g fonksiyonlarının grafiklerinin eksik kısımları aşağıdakilerden hangisi olabilir?



14. Gerçek sayılar kümesi üzerinde tanımlı f ve g fonksiyonları için

$$(f \circ g)(x) = x^2 + 3x + 1$$

$$(g \circ f)(x) = x^2 - x + 1$$

eşitlikleri sağlanıyor.

$f(2) = 1$ olduğuna göre, $f(3)$ değeri kaçtır?

- A) 5 B) 6 C) 7 D) 8 E) 9

15. Bir veri grubundaki sayıların toplamının, gruptaki terim sayısına bölümü ile elde edilen sayıya o veri grubunun aritmetik ortalaması denir.

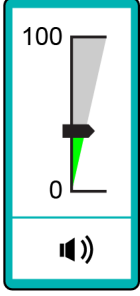
Farklı yaşlardaki kişilerden oluşan bir grupta, yaşı en küçük olan kişi 1 yaşında, yaşı en büyük olan kişi ise 92 yaşındadır.

Graptaki kişilerden en küçük yaşta olanı dışarıda bırakıldığında diğerlerinin yaşlarının aritmetik ortalaması 45, gruptaki kişilerden en büyük yaşta olanı dışarıda bırakıldığında ise diğerlerinin yaşlarının aritmetik ortalaması 38 oluyor.

Buna göre, gruptaki kişi sayısı kaçtır?

- A) 12 B) 14 C) 16 D) 18 E) 20

16. Bir bilgisayarın ses seviyesini ayarlamaya yarayan, 100 eşit birimden oluşan ve alt kısmında hoparlör simgesi bulunan uygulamanın görünümü aşağıda verilmiştir.



Bilgisayarın ses seviyesi

- en az 1, en fazla 32 birim olarak ayarlandığında simgenin görünümü
- en az 33, en fazla 65 birim olarak ayarlandığında simgenin görünümü
- en az 66, en fazla 100 birim olarak ayarlandığında simgenin görünümü

şeklinde olmaktadır.

Başlangıçta belirli bir ses seviyesinde bulunan bu bilgisayarda, ses seviyesi 17 birim artırılırsa simgenin görünümü şeklinde, başlangıçtaki ses seviyesi 18 birim azaltılırsa simgenin görünümü şeklinde oluyor.

Buna göre, başlangıçtaki ses seviyesinin birim türünden alabileceği tam sayı değerleri toplamı kaçtır?

- A) 95 B) 96 C) 97 D) 98 E) 99

17. Bir kafede oturan iki arkadaş 5 bardak çay, 1 bardak portakal suyu içmiş ve tatlı yemişlerdir. İki arkadaşın ödedikleri hesabın bir kısmı aşağıda verilmiştir.

HESAP			
	Adet	Birim Fiyat	Toplam Fiyat
Bardak çay	5	1,5 TL	
Portakal suyu	1	9 TL	
Tatlı			
Toplam			28,5 TL

Buna göre, bu iki arkadaş kaç bardak çay daha içseydi ödeyecekleri toplam hesabın $\frac{2}{7}$ 'si tatlı için ödedikleri tutara eşit olurdu?

- A) 5 B) 7 C) 9 D) 11 E) 13

18. Bir kırtasiyede etiket fiyatları aynı olan kırmızı ve mavi renkli kalemler satılmaktadır. Bu kırtasiyede yapılan bir kampanyada; kırmızı kalemler bir alana ikincisi % 50 indirimli, mavi kalemler ise etiket fiyatı üzerinden % 30 indirimli satılmaktadır.

Bu kırtasiyedeki kırmızı ve mavi kalemlerden 2'şer tane alan birinin mavi kalemlere ödediği para kırmızı kalemlere ödediği paradan 4,5 TL daha azdır.

Buna göre, bu kalemlerden birinin etiket fiyatı kaç TL'dir?

- A) 45 B) 40 C) 35 D) 30 E) 25

19. A ve B kentlerinde bulunan birer araç, bu iki kent arasındaki yol üzerinde sabit hızlarla birbirlerine doğru aynı anda harekete başlıyor ve bir süre sonra karşılaşıyorlar. A kentinden harekete başlayan araç karşılaşmalarından 250 dakika sonra B kentine, B kentinden harekete başlayan araç ise karşılaşmalarından 160 dakika sonra A kentine ulaşıyor.

Buna göre, bu araçlar harekete başladıktan kaç dakika sonra karşılaşmışlardır?

- A) 170 B) 180 C) 190 D) 200 E) 210

20. Bir etkinliğe katılan her kişi için öğle yemeğinde et veya sebze menülerinden biri sipariş verilecektir. Sipariş verildikten sonra 10 farklı kişi menüsünü değiştirmek istemiş ve bu değişiklik nedeniyle ödenecek toplam miktar 80 TL artmıştır.

Et menüsünün fiyatının sebze menüsünün fiyatından 20 TL daha fazla olduğu bilindiğine göre, sebze menüsünü et menüsü ile değiştirmek isteyen kişi sayısı kaçtır?

- A) 5 B) 6 C) 7 D) 8 E) 9

21. 95 binanın yer aldığı bir mahallede her bir bina 2 veya 3 katlıdır. Kentsel dönüşüm kapsamında bu binaların 15 tanesi yıkılıp her birinin yerine 5 katlı birer bina yapıldığında bu mahalledeki binaların kat sayıları toplamı 240'tan 274'e yükselmiştir.

Buna göre, kentsel dönüşüm sonucunda bu mahalledeki 3 katlı bina sayısı yüzde kaç azalmıştır?

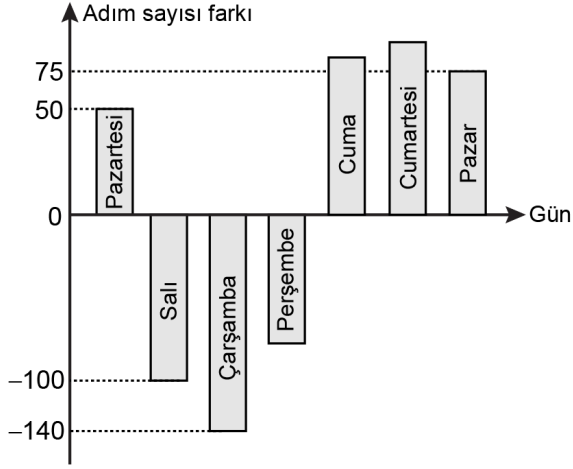
- A) 16 B) 18 C) 20 D) 22 E) 24

22. Üç kardeşin fotoğraflarının bulunduğu bir albümde 100 fotoğraf vardır. Bu albümdeki her bir fotoğrafta ya üç kardeşten ikisi ya da üçü birlikte bulunmaktadır. Bu fotoğraflarda, her bir kardeşin bulunduğu toplam fotoğraf sayısı birbirine eşit ve 83'tür.

Buna göre, bu albümde kardeşlerin üçünün birlikte bulunduğu fotoğraf sayısı kaçtır?

- A) 45 B) 47 C) 49 D) 53 E) 55

23. Ceyda, her gün eşit sayıda adım atarak bir hafta boyunca belirli sayıda adım atmaya planlamıştır. Bu hafta boyunca Ceyda'nın günlük attığı adım sayısının planladığı adım sayısından farkını gösteren grafik aşağıda verilmiştir.



Örneğin; Ceyda planladığı günlük adım sayısından pazartesi günü 50 adım fazla, salı günü ise 100 adım az atmıştır.

Ceyda cuma günü perşembe gününden 165 adım fazla, cumartesi gününden ise 10 adım az atmış ve 7 gün sonunda attığı toplam adım sayısı başlangıçta planladığı adım sayısına eşit olmuştur.

Buna göre, Ceyda cuma günü planladığı günlük adım sayısından kaç adım fazla atmıştır?

- A) 85 B) 90 C) 95 D) 100 E) 105

24. Bir koşu parkurunda koşmaya başlayan Duygu, belirli bir mesafe koştuğundan sonra dinlenmek için mola veriyor.

Duygu, moladan sonra

- 240 metre daha koşarsa tüm parkurun $\frac{7}{12}$ 'sini,
- önceden koştuğu mesafenin $\frac{1}{3}$ 'ü kadar daha koşarsa tüm parkurun $\frac{3}{5}$ 'ini

koşmuş oluyor.

Buna göre, tüm parkurun uzunluğu kaç metredir?

- A) 1440 B) 1620 C) 1800 D) 1980 E) 2160

25. A, B, C ve D kutularında belirli sayıda top bulunmaktadır. A kutusundaki top sayısı;

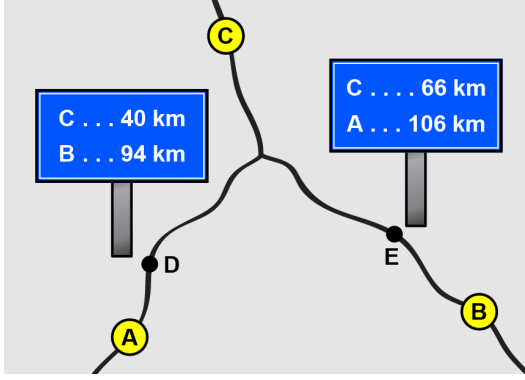
- B kutusundaki top sayısının 2 katına,
- C kutusundaki top sayısının 3 katına,
- D kutusundaki top sayısının ise 4 katına

eşittir.

Kutulardan birinde 8 top olduğuna göre, bu kutularda toplam kaç top vardır?

- A) 30 B) 36 C) 40 D) 44 E) 50

26. A, B ve C ilçeleri ile bu ilçeler arasındaki kara yolları aşağıdaki şekilde gösterilmiştir.



Bu yollar üzerinde bulunan D ve E noktalarının bazı ilçelere olan kara yolu uzaklıkları şekildeki tabelalarda verilmiştir.

Buna göre, C ilçesinin B ilçesine olan kara yolu uzaklığı ile A ilçesine olan kara yolu uzaklığı arasındaki fark kaç km'dir?

- A) 6 B) 8 C) 10 D) 12 E) 14

27. Çınar'ın bir kısmı mavi olan toplam 78 kalemi vardır. Bu kalemleri üç adet kalemlige aşağıdaki gibi paylaşmıştır.

- Kalemliklerdeki kalem sayıları 3, 4 ve 6 ile doğru orantılıdır.
- Her kalemlikteki mavi kalem sayısı birbirine eşittir.
- Kalemliklerin birindeki mavi kalem sayısının o kalemlikteki tüm kalemlerin sayısına oranı $\frac{1}{2}$; başka bir kalemlikte ise bu oran $\frac{1}{3}$ 'tür.

Buna göre, Çınar'ın toplam kaç tane mavi kalemi vardır?

- A) 18 B) 24 C) 27 D) 30 E) 36

28. Bir botanik bahçesine, 2015 yılında her biri 7 yaşında olan bir grup öğrenci; 2020 yılında ise her biri 10 yaşında olan başka bir grup öğrenci geziye gitmiştir. Gruplara bahçeyi gezdiren görevli, bahçedeki aynı tarihi ağaç için iki gruba da "Bu ağacın yaşı hepinizin yaşlarının toplamına eşittir." demiştir.

Bu iki gruptan, ilk gruptaki öğrenci sayısı ikinci gruptaki öğrenci sayısından 10 fazla olduğuna göre, 2020 yılında bu ağaç kaç yaşındadır?

- A) 220 B) 230 C) 240 D) 250 E) 260

29. Üç farklı okuldan ikişer öğrenci bir satranç turnuvasına katılacaklardır. Turnuvanın ilk turunda, her öğrenci maç yapmak için kendi okulundan olmayan bir öğrenciyle eşleştirilecektir.

Buna göre, ilk turdaki eşleştirme kaç farklı şekilde yapılabilir?

- A) 6 B) 8 C) 9 D) 12 E) 15

30.

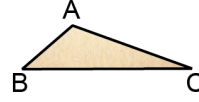


Kerem, dolabının şifresini oluşturmak için şekildeki tuşları kullanarak her biri farklı satırda ve farklı sütunda olacak biçimde 3 sayıyı rastgele seçiyor.

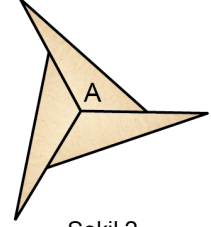
Buna göre, Kerem'in seçtiği sayıların tamamının tek sayı olma olasılığı kaçtır?

- A) $\frac{1}{2}$ B) $\frac{1}{3}$ C) $\frac{2}{9}$
D) $\frac{5}{9}$ E) $\frac{4}{27}$

31. Köşeleri A, B ve C harfleriyle isimlendirilmiş üçgen biçimindeki bir ABC kartonu Şekil 1'deki gibi gösterilmiştir. 3 tane ABC kartonu, A köşeleri çakıştırılıp kenarlar arasında boşluk kalmayacak ve kartonlar üst üste gelmeyecek biçimde düz bir zemin üzerinde Şekil 2'deki gibi birleştirilebilmektedir.



Şekil 1



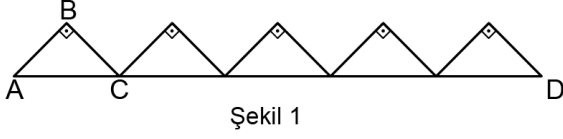
Şekil 2

Aynı işlem, 9 tane ABC kartonu kullanılarak kartonların B köşeleri çakıştırılıp yapılabilmektedir.

Buna göre, bu işlem kaç tane ABC kartonu kullanılarak kartonların C köşeleri çakıştırılıp yapılabilir?

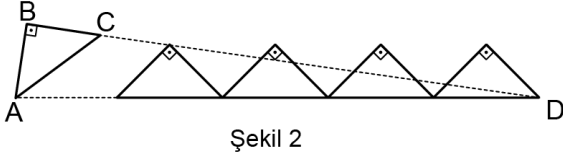
- A) 10 B) 12 C) 15 D) 18 E) 20

32. Dik kenar uzunlukları 1 birim olan 5 özdeş ikizkenar dik üçgen, hipotenüsleri aynı doğru üzerinde olacak ve yan yana gelen üçgenlerin birer köşesi çakışacak biçimde Şekil 1'deki gibi diziliyor.



Şekil 1

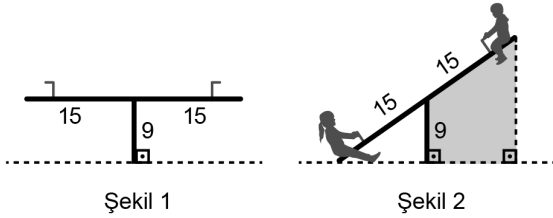
Sonra ABC üçgeni A noktası etrafında bir miktar döndürülüyor ve Şekil 2'deki gibi B, C ve D noktaları doğrusal oluyor.



Şekil 2

Buna göre, son durumda C ve D noktaları arasındaki uzaklık kaç birimdir?

- A) 4 B) 5 C) 6 D) $3\sqrt{2}$ E) $4\sqrt{2}$
33. Şekil 1'deki gibi düz bir zeminde bulunan tahterevallin, 30 birim uzunluğunda doğrusal bir parça ve bu parçanın tam ortasında bulunan 9 birim uzunluğunda doğrusal bir destekten oluşmaktadır.



Şekil 1

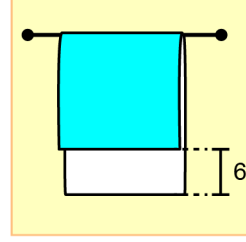
Şekil 2

Şekil 2'deki gibi tahterevallinin sol ucu zemine değdiğinde sağ tarafta dik yamuğ şeklinde boyalı bir bölge oluşmaktadır.

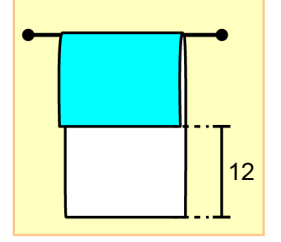
Buna göre, bu yamuğun çevresi kaç birimdir?

- A) 54 B) 55 C) 56 D) 57 E) 58

34. Dikdörtgen biçiminde bir havlunun bir yüzü mavi diğer yüzü beyaz renklidir. Bu havlu, doğrusal bir askıya havlunun kısa kenarları askıya paralel olacak şekilde asılıyor. Havlunun yüzlerinin üst üste gelmeyen kısmının uzunluğu, havlu Şekil 1'deki gibi asıldığında 6 cm; Şekil 2'deki gibi asıldığında ise 12 cm oluyor.



Şekil 1



Şekil 2

Havlunun mavi yüzünün Şekil 1'de görünen kısmının alanının, Şekil 2'de görünen kısmının alanına oranı $\frac{5}{4}$ 'tür.

Buna göre, havlunun uzun kenarı kaç cm'dir?

- A) 24 B) 28 C) 30 D) 36 E) 40

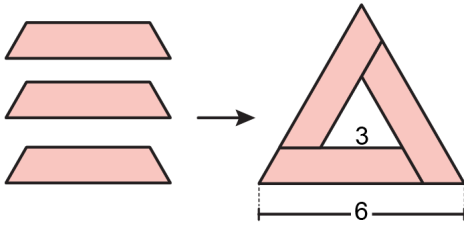
35. Beş bölmeden oluşan şekildeki dolabın önden görünümü kare şeklindedir. Her bir bölmenin kapağı ise alanları birbirine eşit dikdörtgen şeklindedir.



Bu bölmelerden birine şekildeki gibi sadece gömlekler konulmuştur.

Buna göre, gömleklerin konulduğu bölmenin kapağının uzun kenarı kısa kenarının kaç katıdır?

- A) $\frac{4}{3}$ B) $\frac{5}{3}$ C) $\frac{7}{4}$
D) $\frac{6}{5}$ E) $\frac{9}{5}$
36. 3 özdeş ikizkenar yamuk herhangi ikisinin birer köşeleri çakışacak biçimde aşağıdaki gibi birleştirilmiştir.

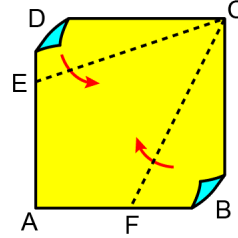


Oluşan şekildeki büyük üçgenin bir kenarı 6 birim, küçük üçgenin bir kenarı ise 3 birimdir.

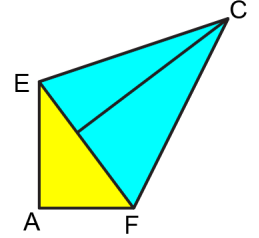
Buna göre, bu ikizkenar yamuklardan birinin çevresi kaç birimdir?

- A) 10 B) 10,5 C) 11 D) 11,5 E) 12

37. Şekil 1'de verilen kare biçimindeki ABCD kâğıdında $|DE| = 6$ ve $|BF| = 9$ birimdir. Bu kâğıt $[CE]$ ve $[CF]$ doğru parçaları boyunca şekildeki gibi katlandığında karenin BC kenarı ve DC kenarı Şekil 2'deki gibi çakışmaktadır.



Şekil 1



Şekil 2

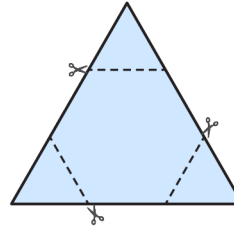
Buna göre, ABCD karesinin çevresi kaç birimdir?

- A) 64 B) 68 C) 72 D) 76 E) 80

38. n kenarlı bir düzgün çokgenin bir iç açısının ölçüsü

$$\frac{(n-2) \cdot 180^\circ}{n} \text{ olarak hesaplanır.}$$

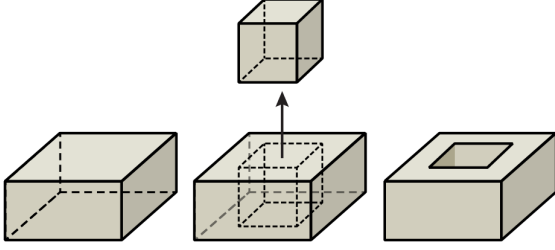
Üçgen biçimindeki bir kâğıt parçası şekildeki gibi kesikli çizgiler boyunca kesildikten sonra 3 tane üçgen parça çıkarılmış ve bir düzgün altıgen elde edilmiştir.



Çıkarılan üçgenlerin çevreleri toplamı 36 birim olduğuna göre, altıgenin çevresi kaç birimdir?

- A) 18 B) 24 C) 30 D) 36 E) 42

39. Tabanı kare biçiminde olan kare dik prizma şeklindeki bir tahta parçasının taban ayırıt uzunluğu yüksekliğinin 2 katına eşittir. Bu tahta parçasının içinden bir ayırıt uzunluğu tahta parçasının yüksekliğine eşit olan bir küp çıkarıldığında oluşan şeklin görünümü aşağıda verilmiştir.



Son durumda oluşan şeklin yüzey alanı ilk durumdaki tahta parçasının yüzey alanından 8 birimkare fazladır.

Buna göre, ilk durumdaki tahta parçasının hacmi kaç birimküptür?

- A) 32 B) 80 C) 108 D) 144 E) 256
40. Bir dikdörtgenler prizmasının hacmi, taban alanı ile yüksekliğinin çarpımına eşittir.
- Dikdörtgenler prizması şeklinde kapalı bir cam kabın içinde 360 birimküp su bulunmaktadır. Kap, düz bir zemine farklı yüzleri bu zemine tamamen değecek biçimde konulduğunda suyun yüksekliği sırasıyla 2 birim, 4 birim ve 5 birim olmaktadır.
- Buna göre, kabın hacmi kaç birimküptür?**
- A) 540 B) 720 C) 840 D) 960 E) 1080

1. Bu testte sırasıyla, Fizik (1-7), Kimya (8-14), Biyoloji (15-20) alanlarına ait toplam 20 soru vardır.

2. Cevaplarınızı, cevap kâğıdının Fen Bilimleri Testi için ayrılan kısmına işaretleyiniz.

1. Formula1 araba yarışlarını sunan bir spiker yayın esnasında,
- En hızlı araba bir turu 2 dakikada tamamladı.
 - Hava sıcaklığı 23 °C'dir.
 - Pistin uzunluğu 10 kilometredir.

gibi bilgiler vermiştir.

Buna göre, spikerin verdiği bilgilerdeki birimlerin SI birim sistemindeki karşılıkları aşağıdakilerden hangisidir?

<u>Zaman</u>	<u>Sıcaklık</u>	<u>Uzunluk</u>
A) saat	Fahrenheit derece	kilometre
B) saniye	Kelvin	metre
C) dakika	Celsius derece	kilometre
D) saniye	Celsius derece	kilometre
E) saat	Kelvin	metre

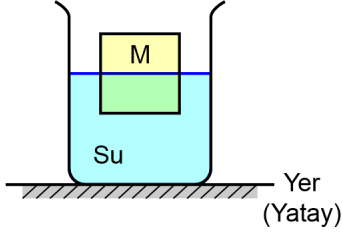
2. Freni bozulmuş olan bir otomobil, yatay düz bir yolda hareket ederken kütlesi kendi kütlesinden çok küçük olan bir çöp kovasına çarpmıştır. Bu sırada kaldırımda otobüs bekleyen Ahmet, Burçin ve Cevdet olaya tanık olmuş ve otomobil ile kovanın birbirlerine temas etmekte oldukları çok kısa süren çarpışma süreciyle ilgili aşağıdaki yorumları yapmışlardır.

- Ahmet: Otomobilin kovaya uyguladığı kuvvet, kovanın otomobile uyguladığından büyüktür.
- Burçin: Kovanın ivmesi, otomobilinkinden büyüktür.
- Cevdet: Kovanın hızı, otomobilinkinden daha büyük değişim göstermiştir.

Buna göre; Ahmet, Burçin ve Cevdet'in yorumlarından hangileri doğrudur?

- A) Yalnız Ahmet B) Yalnız Burçin
C) Yalnız Cevdet D) Ahmet ve Burçin
E) Burçin ve Cevdet

3. M kütleli, homojen ve suda çözünmeyen katı bir cisim şekildeki gibi yüzüyor. Suyun içerisine bir miktar tuz atılıp tuzun çözünmesi bekleniyor.



Sıcaklığın sabit olduğu bilindiğine göre, tuz çözüldüğünde cismin batan kısmının hacmi ile cisme etkiyen kaldırma kuvveti ilk duruma göre nasıl değişir?

Cismin Batan Kısmının Hacmi	Cisme Etkiyen Kaldırma Kuvveti
A) Azalır	Değişmez
B) Artar	Azalır
C) Değişmez	Değişmez
D) Azalır	Artar
E) Değişmez	Azalır

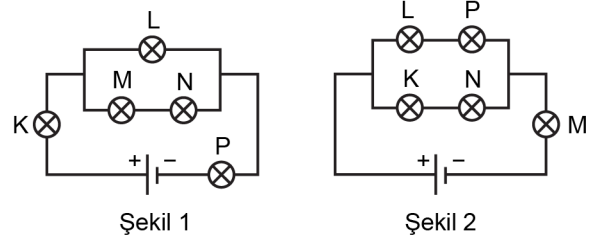
4. Erhan'ın annesi, bir cam şişenin içini kaynamış su ile çalkaladıktan hemen sonra, ağız kısmına şişirilmemiş balonu Şekil 1'deki gibi bağlayarak Erhan'ın oynaması için masanın üzerine bırakmıştır. Erhan, birkaç dakika sonra balonun cam şişenin içine geçerek Şekil 2'deki gibi içeri doğru şiştiğini görür.



Erhan daha sonra cam şişeyi içinde buzlu su bulunan bir kovaya, içine su girmeyecek şekilde yerleştirirse balonun son hâliyle ilgili aşağıdakilerden hangisi doğru olur?

- A) Şişenin içinde daha fazla şişer.
B) Şişenin içinde biraz söner.
C) Durumu değişmez.
D) İlk hâline geri döner.
E) Şişeden çıkıp dışarda şişer.

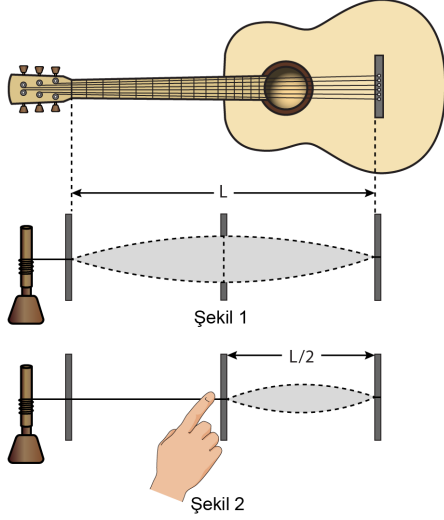
5. Ayşenur, laboratuvarında bulunan K, L, M, N ve P ampullerini Şekil 1'deki gibi bağladığında toplam 3 tane ampulün ışık verdiğini fark ediyor. Daha sonra aynı ampulleri Şekil 2'deki gibi bağladığında ise toplamda yine 3 tane ampulün ışık verdiğini gözlemliyor.



Ayşenur'un kullanmış olduğu ampullerden yalnızca bir tanesinin bozuk olduğu bilindiğine göre bozuk olan ampul aşağıdakilerden hangisidir?

- A) K B) L C) M D) N E) P

6. Merih bir gitar telini ortasından çekip bıraktığında telin detaylı hareketini göremediğini ama telin Şekil 1'de gösterilen dalga biçimli bir bölgeyi taradığını fark eder. Merih bundan sonra Şekil 1'deki tele, gitarın tam ortasındaki perdeye temas edecek şekilde hafifçe bastırır ve bu defa telin Şekil 2'deki gibi bir bölgeyi taradığını gözlemler.



Buna göre teldeki dalgayla ilgili,

- I. Dalga boyu yarıya düşmüştür.
- II. Frekans 2 katına çıkmıştır.
- III. Dalga hızı 2 katına çıkmıştır.

yargılarından hangileri doğrudur?

- A) Yalnız I B) Yalnız II C) Yalnız III
D) I ve II E) II ve III

7. Bir kişi hava ortamında düzlem aynaya bakarak kendi görüntüsünü görmüştür. Aynı kişi hiçbir şeyi değiştirmeden aynı şekilde ayna ile birlikte havuzda suya batıp aynaya bakarak kendi görüntüsünü görmüştür.

Buna göre kişi tamamen su içerisindeyken görünen yeni görüntüyle ilgili,

- I. İlk durumda oluşan görüntüye göre daha büyüktür.
- II. Aynaya olan uzaklığı, ilk durumdaki görüntünün aynaya olan uzaklığından fazladır.
- III. Havuzdaki su, tuzlu su olsaydı boyu yine aynı olurdu.

yargılarından hangileri doğrudur?

- A) Yalnız I B) Yalnız II C) Yalnız III
D) I ve II E) II ve III

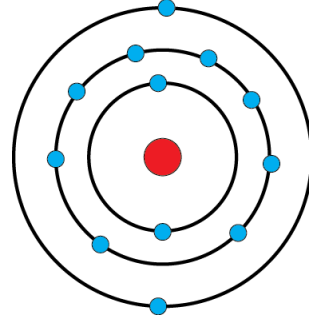
8. Bir kimyasal madde şişesi üzerinde sadece aşağıdaki sağlık ve güvenlik amaçlı temel uyarı işaretleri bulunmaktadır.



Bu kimyasal maddeyle ilgili aşağıdakilerden hangisi doğrudur?

- A) Yakıcı ve toksiktir.
 B) Yakıcı ve çevreye zararlıdır.
 C) Yanıcı ve çevreye zararlıdır.
 D) Patlayıcı ve toksiktir.
 E) Yanıcı ve radyoaktiftir.

9. Çekirdek için kırmızı ve elektronlar için mavi renk kullanılarak bir elementin nötr atomunun katman elektron dağılımı aşağıda modellenmiştir.



Bu elementle ilgili aşağıdaki ifadelerden hangisi doğrudur?

- A) Atom numarası 14'tür.
 B) Yarı metal olarak sınıflandırılır.
 C) Periyodik sistemin 13. (3A) grubunda bulunur.
 D) Periyodik sistemin 2. periyodunda bulunur.
 E) Bileşik oluştururken elektron verir.

10. Aşağıda verilen madde ve maddedeki kimyasal türler arasındaki etkileşim sınıfı eşleştirmelerinden hangisi doğrudur? (${}_1\text{H}$, ${}_6\text{C}$, ${}_8\text{O}$, ${}_9\text{F}$, ${}_{11}\text{Na}$, ${}_{20}\text{Ca}$)

<u>Madde</u>	<u>Etkileşim sınıfı</u>
A) CaF_2	İyonik bağ
B) HF	İyonik bağ
C) H_2O	Metalik bağ
D) Na metali	Kovalent bağ
E) C (grafit)	Metalik bağ

11. Aşağıdaki tabloda üç farklı sıvının 25 °C'deki viskozite değerleri verilmiştir.

Sıvı	Viskozite (mPa s)
Metanol	0,544
Su	0,890
Etanol	1,074

Buna göre,

- I. Akmaya karşı en fazla direnç gösteren etanoldür.
- II. Moleküller arası çekim kuvveti en güçlü olan metanoldür.
- III. Suyun sıcaklığı 15 °C'ye düşürülürse viskozite değeri büyür.

İfadelerinden hangileri doğrudur?

- A) Yalnız I B) Yalnız II C) I ve III
D) II ve III E) I, II ve III
12. Laboratuvarında, içerisinde derişik hidroklorik asit ve derişik nitrik asit çözeltileri oldukları bilinen ancak üzerinde etiketleri olmayan iki şişe bulunmaktadır.
- Bu şişeleri içerdikleri asitler açısından doğru şekilde etiketlemek için aşağıdakilerden hangisinin yapılması uygundur?**
- A) Çinko metali üzerindeki etkilerini incelemek
B) Kireç taşı üzerindeki etkilerini incelemek
C) Bakır metali üzerindeki etkilerini incelemek
D) Çözeltilerin pH değerlerini belirlemek
E) Sodyum hidroksit üzerindeki etkilerini incelemek

13. 1 mol H₂SO₄ içeren sulu çözeltili ile 2 mol KOH içeren sulu çözeltili karıştırılarak tepkime gerçekleştiriliyor.

Bu tepkimeyle ilgili aşağıdaki ifadelerden hangisi doğrudur?

- A) Nötrleşme tepkimesi olarak sınıflandırılır.
B) Tepkime sonucunda H₂ gazı açığa çıkar.
C) Tepkime sonucunda 1 mol H₂O oluşur.
D) 1 mol KOH tepkimeye girmeden kalır.
E) Tepkime sonucunda 2 mol K₂SO₄ tuzu oluşur.

14. 0 °C'de 100 g saf suda en fazla 34 g NaCl tuzu çözünebilmektedir. 0 °C'de bileşenleri aşağıda verilen üç farklı karışım hazırlanıyor.

X karışımı: 100 g saf su ve 20 g NaCl tuzu

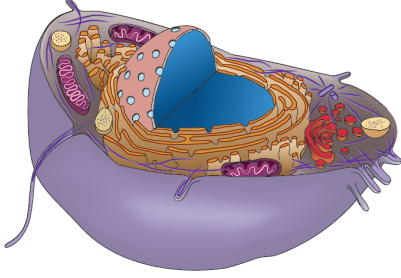
Y karışımı: 100 g saf su ve 34 g NaCl tuzu

Z karışımı: 100 g saf su ve 40 g NaCl tuzu

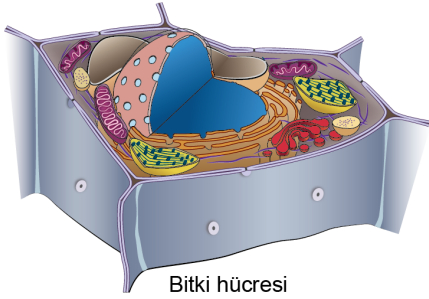
Bu karışımların 1 atm dış basınçta donmaya başlama sıcaklıkları (T_X, T_Y ve T_Z) arasındaki ilişki aşağıdakilerin hangisinde doğru verilmiştir?

- A) T_X > T_Y > T_Z B) T_X > T_Y = T_Z
C) T_Z > T_Y > T_X D) T_Z = T_Y > T_X
E) T_Y = T_X > T_Z

15. Aşağıda bir hayvan ve bitki hücresi şematize edilmiştir.



Hayvan hücresi



Bitki hücresi

Bu hücreler karşılaştırıldığında aşağıdakilerin hangisi açısından aralarında farklılık olmadığı görülür?

- A) Hücre duvarının varlığı
- B) Hücre bölünmesinde sitokinezin gerçekleşme şekli
- C) Hücre içerisinde yer alan organel çeşitleri
- D) Hücre içi iskelet elemanlarının varlığı
- E) Kofulların sayısı ve büyüklükleri

16. DNA ile ilgili aşağıdaki ifadelerden hangisi **yanlıştır**?

- A) Nükleotit adı verilen monomerlerden yapılmıştır.
- B) Hücre bölünmesi öncesinde kendisini kopyalar.
- C) Genetik bilginin yavru hücrelere aktarımında işlev görür.
- D) Hücredeki proteinler, DNA'daki bilgi üzerinden sentezlenir.
- E) Canlılardaki DNA'ların farklılığı, sadece nükleotitlerin dizilimine dayalıdır.

17. Linnaeus'nin canlıların sınıflandırılmasıyla ilgili geliştirmiş olduğu sistem, sonradan bazı değişiklikler yapılmış olsa da günümüzde hâlâ kullanılmaktadır.

Günümüzde kullanılan bu sınıflandırma sistemiyle ilgili aşağıdaki ifadelerden hangisi **yanlıştır?**


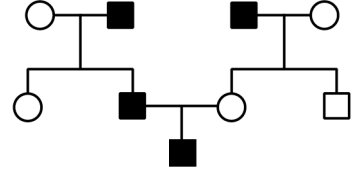
- A) Bu sistem bir hiyerarşik sınıflandırma sistemidir.
- B) Bir üst sınıflandırma basamağında yer alan canlı grupları altta yer alanlara göre daha genel ortak özellikler taşırlar.
- C) Sınıflandırmada her takım içerisinde eşit sayıda canlı türü yer alır.
- D) Bu sınıflandırma sisteminde canlı türleri binomial olarak isimlendirilir.
- E) Canlılar sınıflandırılırken organların köken benzerlikleri de esas alınır.

18. Bir tavuk ve horozun çiftleşmesinden elde edilen yumurtalar kuluçkaya alınıyor. Yumurtadan çıkan civcivlerin tüy rengi, ibik biçimi, tepelik şekli ve kuyruk biçimi gibi bazı karakterlere ait özellikler bakımından birbirlerinden farklılık gösterdiği gözlemleniyor.

Civcivler arasındaki bu farklılığın ortaya çıkmasına aşağıdakilerden hangisinin katkı yapması beklenmez?

- A) Gametlerin oluşumu sırasında crossing over olayının gerçekleşmesi
 B) Mayozda homolog kromozomların şansa bağlı olarak kutuplara gitmesi
 C) Her bir civcivin oluşumu için birleşen gametlerin farklı genotipte olması
 D) Bir yumurtanın, çok sayıdaki sperminden biri tarafından döllenmesi
 E) Yumurtaların kuluçka süresince farklı sıcaklıklara maruz kalması

19. Popülasyonda görülme sıklığı yüksek olan kalıtsal bir hastalığın kalıtım şeklini belirlemek isteyen bir araştırmacı, bu hastalığın görüldüğü bir ailenin soyağacını aşağıdaki gibi çiziyor.



Bu hastalığın kalıtım şekliyle ilgili,

- Hastalığın sadece erkek bireylerde ortaya çıkması, Y'ye bağlı çekinik alel ile kalıtıldığına işaret etmektedir.
- Bu hastalık kesinlikle otozomal baskın alel ile kalıtılmaktadır.
- Soyağacında hasta dişi birey bulunmamasına karşın bu hastalığa X'e bağlı çekinik alel yol açıyor olabilir.

yorumlarından hangileri doğrudur?

- A) Yalnız I B) Yalnız II C) Yalnız III
 D) I ve II E) I ve III

20. Türkiye'nin biyolojik çeşitliliğinin yüksek olmasının nedeni;

- üç kıta arasında bazı canlıların geçiş yolları üzerinde bulunması,
- birbirine çok yakın bölgelerinde farklı iklim tiplerinin görülmesi,
- farklı yeryüzü şekillerine sahip olması

özelliklerinden hangileri olabilir?

- A) Yalnız I B) Yalnız II C) I ve III
 D) II ve III E) I, II ve III

SINAVDA UYULACAK KURALLAR

1. Sınav salonunda saate entegre kamera ile kayıt yapılıyor ise kamera kayıtlarının incelenmesinden sonra sınav kurallarına uymadığı tespit edilen adayların sınavları, ÖSYM Yönetim Kurulunca geçersiz sayılacaktır.
2. **Cep telefonu ile sınava girmek kesinlikle yasaktır.** Adayların sınav binasına; her türlü delici ve kesici alet, ateşli silah, çanta, cüzdan, cep telefonu, saat (kol saati ve her türlü saat), anahtarlık, her türlü araç anahtarı, kablosuz iletişim sağlayan bluetooth ve benzeri cihazlar ile; kulaklık, kolye, küpe, yüzük (**alyans hariç**), bilezik broş ve diğer takılar, her türlü plastik, cam eşya (**şeffaf/numaralı gözlük hariç**), plastik ve metal içerikli eşyalar (**başörtü için kullanılan boncuklu/boncuksuz toplu iğne, para, anahtarlıksız basit anahtar, ulaşım kartı, basit tokalı kemer, basit tel toka ve basit piercing (taşsız, metal top veya sivri uçlu) hariç**) banka/kredi kartı vb. kartlarla, her türlü elektronik/mekanik cihaz ve her türlü müsvedde kâğıt, defter, kalem, silgi, kalemıraş, kitap, ders notu, sözlük, dergi, gazete ve benzeri yayınlar, cetvel, pergel, açıölçer ve bu gibi araçlarla, yiyecek içecek (**şeffaf pet şişe içerisinde bandajı çıkarılmış su hariç**), ilaç ve diğer tüketim maddeleri ile gelmeleri yasaktır. Bu tür eşya, araç-gereçlerle sınav girmiş adaylar mutlaka Salon Tutanağı'na yazılacak, bu adayların sınavı geçersiz sayılacaktır. **Ancak, ÖSYM Başkanlığı tarafından belirlenen Engelli ve Yedek Sınav Evrakı Yönetim Merkezi (YSYM) binalarında sınava girecek olan engelli adayların sınav giriş belgelerinde yazılı olan araç-gereçler, cihazlar vb. yukarıda belirtilen yasakların kapsamı dışında değerlendirilecektir.**
3. Bu sınav için verilen cevaplama süresi **165 dakikadır (2 saat, 45 dakika)**. Sınav başladıktan sonra **ilk 90 dakika** içinde adayın sınavdan çıkmasına kesinlikle izin verilmeyecektir. **Bu süreler dışında, cevaplama sınav bitmeden tamamlarsanız cevap kâğıdınızı ve soru kitapçığınızı salon görevlilerine teslim ederek salonu terk edebilirsiniz. Bildirilen sürele aykırı davranışlardan adayın kendisi sorumludur.**
4. **Sınav salonundan ayrılan aday, her ne sebeple olursa olsun, tekrar sınav salonuna alınmayacaktır.**
5. Sınav süresince görevlilerle konuşmak, görevlilere soru sormak yasaktır. Aynı şekilde görevlilerin de adaylarla yakından ve alçak sesle konuşmaları ayrıca adayların birbirinden kalem, silgi vb. şeyleri istemeleri kesinlikle yasaktır.
6. Sınav sırasında, görevlilerin her türlü uyarısına uymak zorundasınız. Sınavınızın geçerli sayılması, her şeyden önce, sınav kurallarına uymanıza bağlıdır. Kurallara aykırı davranışta bulunanlar ve yapılacak uyarılara uymayanlar Salon Tutanağı'na yazılacak ve sınavları geçersiz sayılacaktır.
7. Sınav sırasında kopya çeken, çekmeye kalkışan, kopya veren, kopya çekilmesine yardım edenler Salon Tutanağı'na yazılacak ve bu adayların sınavları geçersiz sayılacaktır. Adayların test sorularına verdikleri cevapların dağılımları bilgi işlem yöntemleriyle incelenecek, bu incelemelerden elde edilen bulgular bireysel veya toplu olarak kopya çekildiğini gösterirse kopya eylemine katılan adayın/adayların sınavı geçersiz sayılacak ayrıca bu aday/adaylar 2 yıl boyunca ÖSYM tarafından düzenlenen hiçbir sınavı başvuru yapamayacak ve sınava giremeyecektir. Sınav görevlileri bir salondaki sınavın, kurallara uygun biçimde yapılmadığını, toplu kopya girişiminde bulunulduğunu raporlarında bildirdiği takdirde, ÖSYM bu salonda sınava giren tüm adayların sınavını geçersiz sayabilir.
8. Cevap kâğıdında doldurmanız gereken alanlar bulunmaktadır. Bu alanları doldurunuz. Cevap kâğıdınızı başkaları tarafından görülmeyecek şekilde tutmanız gerekmektedir. Cevap kâğıdına yazılacak her türlü yazıda ve yapılacak bütün işaretlemelerde kurşun kalem kullanılacaktır. Sınav süresi bittiğinde cevapların, cevap kâğıdına işaretlenmiş olması gerekir. Soru kitapçığına işaretlenen cevaplar geçerli değildir.
9. Soru kitapçığınızı alır almaz kitapçık kapağında bulunan alanları doldurunuz. Size söylendiği zaman sayfaların eksik olup olmadığını, kitapçıkta basım hatalarının bulunup bulunmadığını ve soru kitapçığının her sayfasında basılı bulunan soru kitapçık numarasının, kitapçığın ön kapağında basılı soru kitapçık numarasıyla aynı olup olmadığını kontrol ediniz. Soru kitapçığının sayfası eksik veya basımı hatalıysa değiştirilmesi için salon başkanına başvurunuz. **Size verilen soru kitapçığının numarasını cevap kâğıdınızdaki "Soru Kitapçık Numarası" alanına yazınız ve kodlayınız. Cevap kâğıdınızdaki "Soru kitapçık numaramı doğru kodladım." kutucuğunu işaretleyiniz. Soru kitapçığı üzerinde yer alan Soru Kitapçık Numarasını doğru kodladığınızı beyan eden alanı imzalayınız.**
10. Sınav sonunda soru kitapçıkları toplanacak ve ÖSYM'de incelenecektir. Soru kitapçığının sayfalarını koparmayınız. Soru kitapçığının bir sayfası bile eksik çıkarsa sınavınız geçersiz sayılacaktır.
11. Cevap kâğıdına ve soru kitapçığına yazılması ve işaretlenmesi gereken bilgilerde bir eksiklik ve/veya yanlışlık olması hâlinde sınavınızın değerlendirilmesi mümkün değildir, bu husustaki özen yükümlülüğü ve sorumluluk size aittir.
12. Soruları ve/veya bu sorulara verdiğiniz cevapları ayrı bir kâğıda yazıp bu kâğıdı dışarı çıkarmanız kesinlikle yasaktır.
13. **Sınav salonundan ayrılmadan önce, soru kitapçığınızı, cevap kâğıdınızı ve sınava giriş belgenizi salon görevlilerine eksiksiz olarak teslim ediniz. Bu konudaki sorumluluk size aittir.**
14. Sınav süresi salon görevlilerinin "SINAV BAŞLAMIŞTIR" uyarısıyla başlar, "SINAV BİTMİŞTİR" uyarısıyla sona erer.

Bu testlerin her hakkı saklıdır. Hangi amaçla olursa olsun, testlerin tamamının veya bir kısmının Merkezimizin yazılı izni olmadan kopya edilmesi, fotoğrafının çekilmesi, herhangi bir yolla çoğaltılması, yayımlanması ya da kullanılması yasaktır. Bu yasağa uymayanlar gerekli cezai sorumluluğu ve doğacak tüm mali külfeti peşinen kabullenmiş sayılır.

2020 TEMEL YETERLİLİK TESTİ (TYT)

YKS 1. OTURUM TEMEL YETERLİLİK TESTİ (TYT)

27-06-2020

TÜRKÇE TESTİ

1. B
2. E
3. A
4. C
5. A
6. D
7. E
8. E
9. A
10. D
11. B
12. E
13. A
14. E
15. B
16. C
17. B
18. C
19. A
20. D
21. B
22. E
23. D
24. B
25. E
26. D
27. C
28. A
29. C
30. A
31. B
32. C
33. D
34. B
35. C
36. D
37. E
38. B
39. C
40. D

SOSYAL BİLİMLER TESTİ

1. E
2. E
3. B
4. D
5. C
6. B
7. A
8. D
9. D
10. C
11. E
12. C
13. B
14. E
15. D
16. B
17. A
18. C
19. D
20. B
21. D
22. C
23. A
24. E
25. A

TEMEL MATEMATİK TESTİ

1. C
2. C
3. A
4. D
5. C
6. D
7. E
8. D
9. B
10. A
11. A
12. B
13. B
14. A
15. B
16. E
17. C
18. A
19. D
20. C
21. D
22. C
23. B
24. C
25. E
26. E
27. E
28. D
29. B
30. B
31. D
32. C
33. A
34. D
35. E
36. C
37. C
38. B
39. A
40. E

FEN BİLİMLERİ TESTİ

1. B
2. E
3. A
4. A
5. D
6. D
7. C
8. C
9. E
10. A
11. C
12. C
13. A
14. B
15. D
16. E
17. C
18. E
19. C
20. E